

Фамилия, имя, класс Бруевич Никита 10А

Шифр  
Г (география)  
10 класс № 17

Т-10 / 31  
общее количество  
415

Шифр  
Г (география)  
10 класс № 17

**Всероссийская олимпиада школьников по географии. 2023-2024 учебный год.**

**Школьный этап. 10 класс**

*Начинать работу можно с любого задания, однако, мы рекомендуем выполнять задания в том порядке, в котором они даны. Если какое-то задание вызывает у вас затруднение, пропустите его и постарайтесь выполнить те, в ответах на которые вы уверены. К пропущенным заданиям можно будет вернуться, если у вас останется время.*

**Общее время выполнения работы - 135 минут**

**Максимальная сумма баллов – 68**

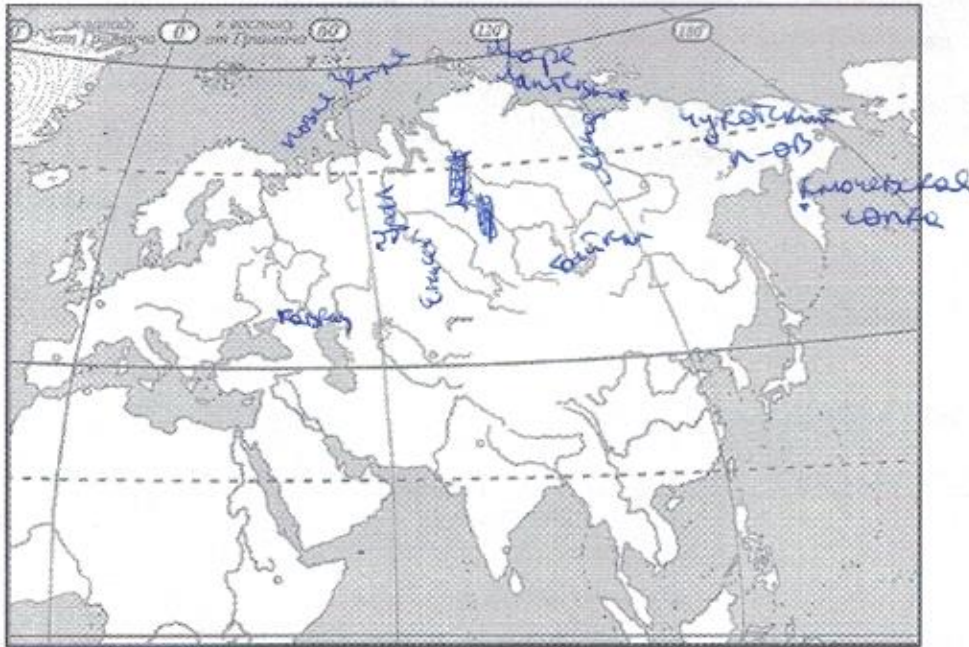
*Во время выполнения заданий не допускается использование атласов и других источников информации.*

### **Теоретический тур**

#### **Задание 1. (9 баллов)**

Вспомните природные рекорды России. На контурной карте Евразии надпишите названия географических объектов-рекордсменов России:

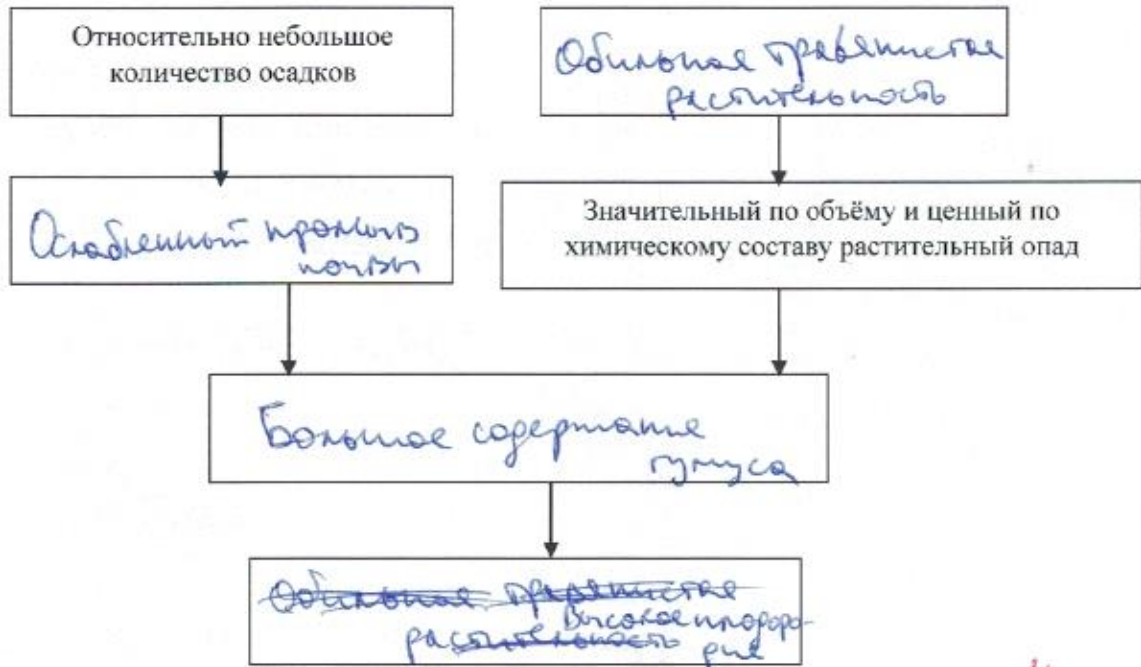
- самой длинной горной системы
- самой высокой горной системы (можно обозначить цифрой и расшифровать)
- самой длинной реки, бассейн которой полностью находится в России
- самой многоводной реки
- крупнейшего полуострова
- самого большого и глубокого моря у берегов России
- самого высокого действующего вулкана
- крупнейшего острова
- самого глубокого озера



5

**Задание 2. (4 балла)**

Дополните схему, объясняющую причины высокого естественного плодородия чернозёмов. В рамках разместите следующие словосочетания: большое содержание гумуса; высокое плодородие, ослабленный промыв почвы; обильная травянистая растительность.



4

**Задание 3. (16 баллов)**

1. В каждом из двух списков найдите и выпишите по 7 понятий (это элементы духовной и материальной культуры, имена, представители органического мира и т.п.), относящихся к одной стране. Определите страны.



1) Сари, хинди, Тадж-Махал, птица киви, Рабиндранат Тагор, рупия, Хоккайдо, «Махабхарата», гора Кука, Махатма Ганди, кимоно, Акира Куросава

Хинди, Тадж-Махал, рупия, Махатма Ганди, Хоккайдо, Махабхарата, гора Кука, Рабиндранат Тагор.

Страна Индия

4,5

2) Суоми, маори, Хельсинки, Лапландия, Веллингтон, Ян Сибелиус, иена, саамы, гаттерия, «Калевала», Инариярви, хокку

Суоми, маори, иена, Калевала, Инариярви, хокку, Лапландия, Хельсинки, Веллингтон, Ян Сибелиус, саамы, гаттерия, Калевала, Инариярви, Лапландия.

Страна Финляндия Инариярви

4

2. Слова, оставшиеся в обоих списках, объедините, а затем разделите на две группы и укажите названия островных государств, с которыми эти понятия связаны.

1) Птица киви, гора Кука, Веллингтон, иена, маори.

Островное государство Индонезия Новая Зеландия

2) Суоми, Акира Куросава, хокку, Инариярви кимоно, Хоккайдо

Островное государство Япония

3

#### Задание 4. (9 баллов)

1) Дополните таблицу, соотнося перечисленные в списке современные и старые, прежние названия городов: Архангельск, Новосибирск, Калинин, Горький, Улан-Удэ, Владикавказ, Симбирск, Свердловск, Волгоград, Киров, Краснодар, Куйбышев.

14,5

№	Современные названия городов	Прежние названия городов
1	Ульяновск	<del>Волгоград</del> Горький -
2	Самара	Симбирск -
3	Нижний Новгород	Куйбышев -
4	Тверь	Калинин +
5	Екатеринбург	Свердловск +
6	<del>Калининград</del> Волгоград +	Сталинград, Царицын
7	Киров +	Вятка, Хлынов
8	Улан-Удэ -	Орджоникидзе, Дзауджикау
9	Краснодар +	Екатеринодар

10	Новосибирск +	Новониколаевск
11	Владикавказ -	Верхнеудинск
12	Архангельск +	Новые Холмогоры

2) Напишите современные названия городов (из числа включённых в таблицу), в которых установлены эти памятники.



1. Памятник

Афанасию Никитину



2. Памятник

Петру I



3. Монумент

«Родина-мать зовёт!»

1. Москва -
2. Санкт-Петербург -
3. Великий Новгород -

3,5

**Задание 5. (14 баллов)**

Заполните таблицу «Основные отрасли сельского хозяйства Поволжья», используя предложенные элементы ответа (в разных ячейках они могут повторяться).

**Основные отрасли сельского хозяйства Поволжья**

Особенности	Части Поволжского региона		
	Север	Центр	Юг
Число дней с температурой более +10°C	120-150 +	150-170 +	170-190 +
Типы почв	оподзоленные чернозёмы +	чернозёмы, бурое подзолы +	Чернозёмы, серые лесные -



Основные сельскохозяйственные культуры	Рожь, пшено, яровая пшеница, подсолнечник, гречиха	Картофель, сахарная свёкла, рис и овощи.	Арбузы, дыни
Направления животноводства	Мясо-молочное скотоводство, полутонкорунное овцеводство	Тонкорунное овцеводство, свиноводство	Коневодство, грубошерстное овцеводство

Элементы ответа:

Число дней с температурой более +10°C: 170–190, 120–150, 150–170

Типы почв: чернозёмы, бурые полупустынные, оподзоленные чернозёмы, серые лесные, каштановые

Основные сельскохозяйственные культуры: арбузы, рожь, пшено, яровая пшеница, дыни, сахарная свёкла, рис и овощи (на поливных землях), пшеница, картофель, подсолнечник, гречиха

Направления животноводства: мясо-молочное скотоводство, грубошерстное овцеводство, тонкорунное овцеводство, полутонкорунное овцеводство, коневодство, свиноводство

### Тестовый тур

На каждый вопрос даны четыре варианта ответов.

Выберите только один правильный и внесите его в матрицу ответов.

Максимально 16 баллов, по 1 баллу за каждый правильный ответ.

1. Выберите город с наибольшей численностью населения:

- а) Саратов      б) Самара      в) Сыктывкар      г) Салехард

2. Из какой зерновой культуры производят пшённую крупу?

- а) рожь      б) пшеница      в) ячмень      г) пшено

3. Выберите верное утверждение:

- а) Российский участок Вислинской косы называют Балтийской косой.  
б) Балтийская коса длиннее Куршской косы.  
в) На Балтийской косе нет дюн.  
г) Российский участок Вислинской косы называют Куршской косой.

4. Выберите верное утверждение о реке Неман:
- а) Река Шешупе является притоком Немана.
  - б) Неман впадает в Калининградский залив.
  - в) Исток Немана находится в Калининградской области.
  - г) На Немане расположен город Черняховск.
5. Какой город Калининградской области расположен севернее?
- а) Гусев
  - б) Черняховск
  - в) Славск
  - г) Нестеров
6. В Южной Америке расположено государство:
- а) Боливия
  - б) Ботсвана
  - в) Ливия
  - г) ЮАР
7. Муссонные дожди часто вызывают наводнения на реке:
- а) Енисей
  - б) Хуанхэ
  - в) Дунай
  - г) Тигр
8. Как называется высшая точка Уральских гор?
- а) Победа
  - б) Казбек
  - в) Народная
  - г) Белуха
9. Для какой природной зоны характерны каштановые почвы?
- а) лесостепь
  - б) тайга
  - в) широколиственные леса
  - г) сухая степь
10. На территории какого субъекта РФ находится Уссурийский заповедник?
- а) Магаданская область
  - б) Хабаровский край
  - в) Приморский край
  - г) Амурская область
11. Если годовое количество осадков составляет 700 мм, а испаряемость – 300 мм, каким является увлажнение?
- а) избыточное
  - б) недостаточное
  - в) достаточное
  - г) скудное
12. Выберите народ, представители которого исповедуют буддизм.
- а) якуты
  - б) чувашаи
  - в) башкиры
  - г) буряты
13. В каком регионе густота железных дорог наибольшая?

- а) Калужская область  
в) Республика Калмыкия

- б) Республика Коми  
г) Красноярский край

14. Выберите атомную электростанцию.

- а) Сургутская      б) Курская      в) Красноярская      г) Иркутская

15. Какое из утверждений о Бразилии является НЕверным?

- а) Государственным языком в стране является португальский.  
б) Большая часть электроэнергии в стране производится на ГЭС.  
в) Столица является крупнейшим по численности населения городом страны.  
г) Одной из главных статей экспорта Бразилии является кофе.

16. Какой город традиционно входит в туристический маршрут «Золотое кольцо России»?

- а) Владимир      б) Рязань      в) Смоленск      г) Вологда

Матрица для записи ответов

1	2	3	4	5	6	7	8	9	10
б	б	а	б	г	а	в	в	в	г
+	-	+	-	-	+	-	+	-	-
11	12	13	14	15	16				
а	г	а	б	в	а				
+	+	+	+	+	+				

100.



Шифр География

Фамилия, имя, класс Иванов Евгений И А класс

Класс - 11

Шифр

**Всероссийская олимпиада школьников по географии. 2023-2024 учебный год.**

**Школьный этап. 11 класс**

Начинать работу можно с любого задания, однако, мы рекомендуем выполнять задания в том порядке, в котором они даны. Если какое-то задание вызывает у вас затруднение, пропустите его и постарайтесь выполнить те, в ответах на которые вы уверены. К пропущенным заданиям можно будет вернуться, если у вас останется время.

**Общее время выполнения работы - 135 минут**

**Максимальная сумма баллов – 62**

*Во время выполнения заданий не допускается использование атласов и других источников информации.*

**Теоретический тур**

**Задание 1. (3 балла)**

30

Название какого острова, в переводе означающее «Зелёная земля» или «Зелёная страна», противоречит его природным особенностям? Френландия

Почему на его юго-западном побережье климат не так суров, как на остальной части, и летом растёт зелёная трава?

Это связано с наличием тёплого течения Гольфстрим.

Назовите страну, которой принадлежит этот остров. Дания

**Задание 2. (13 баллов)**

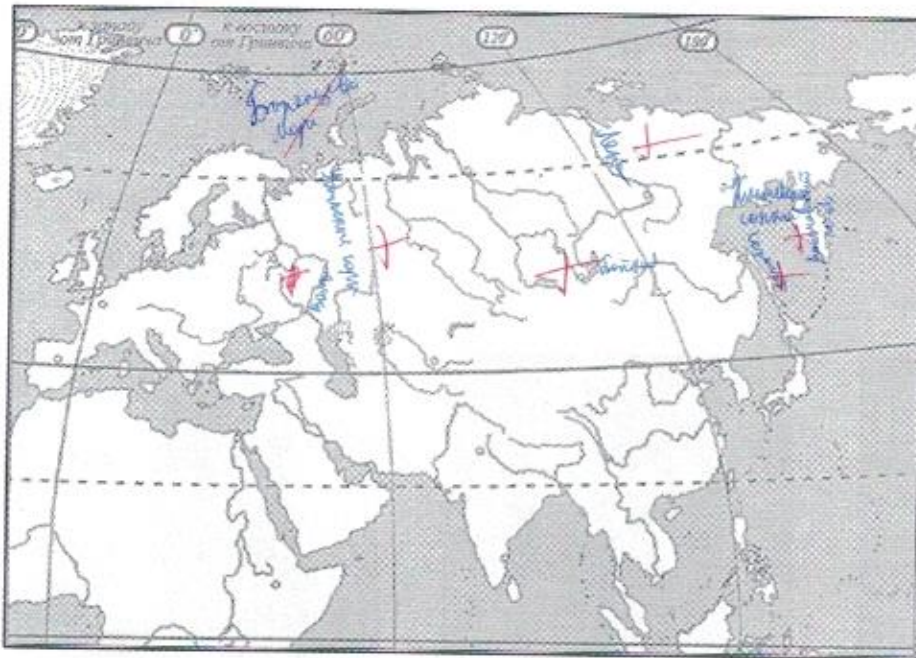
Вспомните природные рекорды России. На контурной карте Евразии напишите названия географических объектов-рекордсменов России:

- самой длинной горной системы
- самой высокой горной системы (можно обозначить цифрой и расшифровать)
- самой длинной реки, бассейн которой полностью находится в России
- самой многоводной реки
- крупнейшего полуострова

46,5



- самого большого и глубокого моря у берегов России
- самого высокого действующего вулкана
- крупнейшего острова
- самого глубокого озера



Какие субъекты Российской Федерации омывает самое глубокое озеро?

Иван Фрунзенский, Республика Алтай

На территории какого субъекта РФ находится крупнейший полуостров?

Камчатский край

На территории какого субъекта РФ находится самый высокий действующий вулкан?

Камчатский край

### Задание 3. (9 баллов)

1) Дополните таблицу, соотнося перечисленные в списке современные и старые, прежние названия городов: Архангельск, Новосибирск, Калинин, Горький, Улан-Удэ, Владикавказ, Симбирск, Свердловск, Волгоград, Киров, Краснодар, Куйбышев.

№	Современные названия городов	Прежние названия городов
1	Ульяновск	Симбирск +
2	Самара	Камызяк
3	Нижний Новгород	Горький +
4	Тверь	Визьма
5	Екатеринбург	Свердловск +

6	Волгоград +	Сталинград, Царицын
7	Астрахань	Вятка, Хлынов
8	Владикавказ +	Орджоникидзе, Дзауджикау
9	Краснодар +	Екатеринодар
10	Новосибирск +	Новониколаевск
11	Челябинск +	Верхнеудинск
12	Куйбышев	Новые Холмогоры

2) Напишите современные названия городов (из числа включённых в таблицу), в которых установлены эти памятники.



1. Памятник

Афанасию Никитину



2. Памятник

Петру I



3. Монумент

«Родина-мать зовёт!»

1. Волгоград
2. Астрахань
3. Владикавказ

**Задание 4. (16 баллов)**

1. В каждом из двух списков найдите и выпишите по 7 понятий (это элементы духовной и материальной культуры, имена, представители органического мира и т.п.), относящихся к одной стране. Определите страны.

1) Сари, хинди, Тадж-Махал, птица киви, Рабиндранат Тагор, рупия, Хоккайдо, «Махабхарата», гора Кука, Махатма Ганди, синтоизм, Акира Куросава

Ботт, Мадри, Мадри-Монка, Рабиндранат Тагор, рупия, «Махабхарата»,  
Мозамбик, Япония



Страна Индия ↓

2) Суоми, маори, Хельсинки, Лапландия, Веллингтон, Ян Сибелиус, иена, саамы, гаттерия, «Калевала», Инариярви, танка

Гоним, Ялксала, Лотвадия, саамы, «Калевала», Инариярви, танка

Страна Индия ↓

2. Слова, оставшиеся в обоих списках, объедините, а затем разделите на две группы и укажите названия островных государств, с которыми эти понятия связаны.

1) Корридо, атомизм, Акира Курасава

Островное государство Япония ↓

2) Лондон, Тибет, гора Кура, маори, Веллингтон, Ян Сибелиус, гаттерия

Островное государство Новая Зеландия ↓

### Задание 5. (5 баллов)

Дополните таблицу, записав в соответствующую графу страны из списка, размещённого ниже.

Страны-лидеры по площади лесов (2015 г.)

Место	Страна	Площадь лесов, млн га	Лесистость, % от территории страны	Доля от площади лесов мира, %
1	<u>Россия</u> ↓	815	47	20
2	<u>Бразилия</u> ↓	494	58	12
3	<u>США</u>	347	35	9
4	<u>Канада</u>	310	32	8
5	<u>Австралия</u>	208	22	5
6	<u>Д.С. Конго</u> ↓	153	65	4
7	<u>Франция</u>	125	16	3
8	<u>Индия</u>	91	50	2
9	<u>Корея</u>	74	58	2
10	<u>Китай</u>	71	22	2



Страны: Индия, США, Канада, Россия, Индонезия, Бразилия, Австралия, Китай, Демократическая Республика Конго, Перу

### Тестовый тур

На каждый вопрос даны четыре варианта ответов.

Выберите только один правильный и внесите его в матрицу ответов.

**Максимально 16 баллов**, по 1 баллу за каждый правильный ответ.

1. Какая страна является монархией?

- а) Пакистан                      б) Молдавия                       в) Нидерланды                      г) Финляндия

2. Выберите город с наибольшей численностью населения:

- а) Саратов                       б) Самара                      в) Сыктывкар                      г) Салехард

3. Выберите верное утверждение:

- а) Российский участок Вислинской косы называют Балтийской косой.  
б) Балтийская коса длиннее Куршской косы.  
в) На Балтийской косе нет дюн.  
г) Российский участок Вислинской косы называют Куршской косой.

4. Выберите верное утверждение о реке Неман:

- а) Река Шешупе является притоком Немана.  
б) Неман впадает в Калининградский залив.  
в) Исток Немана находится в Калининградской области.  
г) На Немане расположен город Черняховск.

5. Какой город Калининградской области расположен севернее?

- а) Нестеров                      б) Черняховск                      в) Гусев                       г) Славск

6. В Южной Америке расположено государство:

- а) Боливия                      б) Ботсвана                      в) Ливия                      г) ЮАР

7. Муссонные дожди часто вызывают наводнения на реке:

- а) Енисей                       б) Хуанхэ                      в) Дунай                      г) Тигр



1	2	3	4	5	6	7	8	9	10
<del>b</del>	<del>d</del>	<del>a</del>	<del>a</del>	<del>c</del>	<del>a</del>	<del>d</del>	<del>b</del>	<del>b</del>	<del>v</del>

11	12	13	14	15	16
<del>a</del>	<del>c</del>	<del>a</del>	<del>d</del>	<del>b</del>	<del>b</del>

145



Фамилия, имя, класс Тимязов Ринур 9, 811

Шифр Р/олимпиада  
9 класс - 46

T-11/33  
общее кол-во 44.

Шифр

**Всероссийская олимпиада школьников по географии. 2023-2024 учебный год.**  
**Школьный этап. 9 класс**

Начинать работу можно с любого задания, однако, мы рекомендуем выполнять задания в том порядке, в котором они даны. Если какое-то задание вызывает у вас затруднение, пропустите его и постарайтесь выполнить те, в ответах на которые вы уверены. К пропущенным заданиям можно будет вернуться, если у вас останется время.

**Общее время выполнения работы - 135 минут**

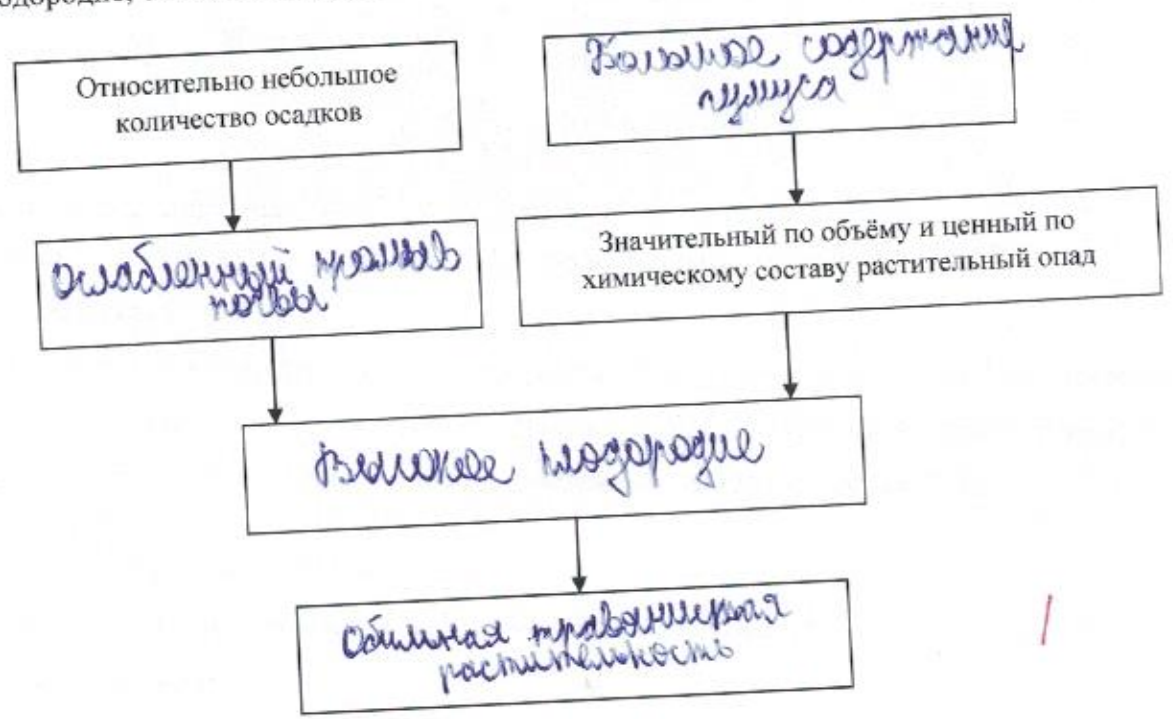
**Максимальная сумма баллов - 64**

Во время выполнения заданий не допускается использование атласов и других источников информации.

**Теоретический тур**

**Задание 1. (4 балла)**

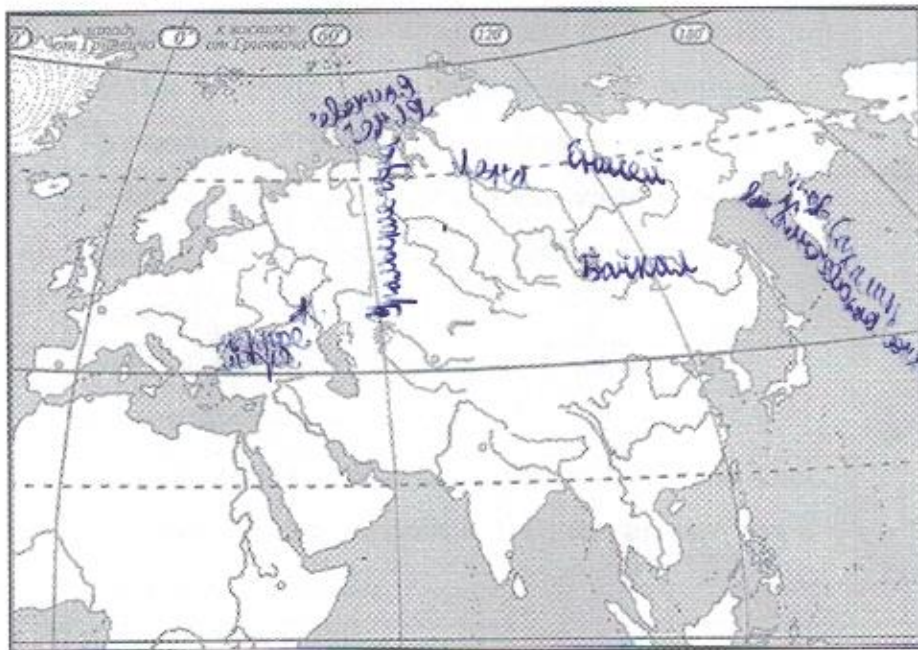
Дополните схему, объясняющую причины высокого естественного плодородия чернозёмов. В рамках разместите следующие словосочетания: большое содержание гумуса; высокое плодородие, ослабленный промыв почвы; обильная травянистая растительность.



**Задание 2. (10 баллов)**

Вспомните природные рекорды России. На контурной карте Евразии надпишите названия географических объектов-рекордсменов России:

- самой длинной горной системы Уральские горы 1
- самой высокой горной системы (можно обозначить цифрой и расшифровать) Кавказы 1
- самой длинной реки, бассейн которой полностью находится в России Лена 0,5
- самой многоводной реки Енисей 0,5
- крупнейшего полуострова п-ов Сахалин
- самого большого и глубокого моря у берегов России Чёрное море
- самого высокого действующего вулкана Ключевская Сопка 1
- крупнейшего острова Северная Земля
- самого глубокого озера Байкал 1



1 Кавказы

Как называется высшая точка самой высокой горной системы России? Эльбурс 1

**Задание 3. (6 баллов)**

Ниже перечислены утверждения об одной из частей света. Определите, о какой части света идёт речь, и укажите номера двух лишних утверждений. К каким частям света относятся лишние утверждения? Назовите пункт, о котором говорится в утверждении № 6.

1. В этой части света обитает большая панда.
2. В этой части света занимался исследованиями Н.М.Пржевальский.
3. В этой части света находится мыс Рока.
4. В этой части света обитает страус нанду.



5. В этой части света самая высокая численность населения.  
 6. В этой части света находится пункт, где отмечено максимальное количество осадков на Земле.  
 7. В этой части света находится отметка высоты 8848 м.

Часть света Азия <sup>+</sup>

Лишнее утверждение: номер 3) <sup>+</sup> часть света Америка <sup>-</sup>

Лишнее утверждение: номер 4) <sup>+</sup> часть света Африка <sup>-</sup>

Пункт \_\_\_\_\_

*В*


**Задание 4. (12 баллов)**

1) Дополните таблицу, выбрав названия растений из списка: секвойя, вельвичия, виктория, раффлезия, лиственница, эвкалипт, саксаул, ковыль, криптомерия, женьшень, маньчжурский орех, гевея. Названия растений, не включённых в таблицу, подпишите под фотографиями.


№	Некоторые особенности растений	Названия растений
1	Вечнозелёное дерево, типичное для Австралии. Из листьев получают масло, применяемое в медицине.	Эвкалипт <sup>+</sup>
2	Название этого травянистого растения в переводе с китайского языка означает «корень жизни», «человек-корень». Препараты из корня – тонизирующее средство.	Женьшень <sup>+</sup>
3	Многолетняя трава, относящаяся к злаковым и распространённая в степях.	Ковыль <sup>+</sup>
4	Древесное или кустарниковое растение пустынь Азии, хороший закрепитель песков. Зелёные веточки – корм для верблюдов и овец.	Саксаул <sup>+</sup>
5	Вечнозелёное хвойное дерево прибрежных лесов Северной Америки, высотой более 100 м.	Секвойя <sup>+</sup>
6	Хвойное дерево с твёрдой прочной древесиной. Осенью хвоя опадает. Самое распространённое дерево в России.	Лиственница <sup>+</sup>
7	Водное растение Южной Америки. Листья с загнутыми краями диаметром до 2 м выдерживают груз до 50 кг.	Виктория <sup>+</sup>
8	Дерево в Северном Китае, Корее, в России – в Приморье и Приамурье. Плоды используют в кондитерской промышленности.	Маньчжурский орех <sup>+</sup>



9	Вечнозелёное дерево родом из тропической Америки, источник натурального каучука.	Криптантерия
10	Вечнозелёное хвойное дерево. Считается национальным символом Японии.	Секоя



А) Рafflesia



Б) Секвоя

105

**Задание 5. (16 баллов)**

1. В каждом из двух списков найдите и выпишите по 7 понятий (это элементы духовной и материальной культуры, имена, представители органического мира и т.п.), относящихся к одной стране. Определите страны.

1) Сари, хинди, Тадж-Махал, птица киви, Рабиндранат Тагор, рупия, Хоккайдо, «Махабхарата», гора Кука, Махатма Ганди, кимоно, Акира Куросава

Сари, хинди, Тадж-Махал, Рабиндранат Тагор, рупия, «Махабхарата», Махатма Ганди

Страна Индия

4,5

2) Суоми, маори, Хельсинки, Лапландия, Веллингтон, Ян Сибелиус, иена, саамы, гаттерия, «Калевала» Инариярви, хокку

Хельсинки, Веллингтон, Лапландия, Ян Сибелиус, саамы, «Калевала», Инариярви

Страна Финляндия

4,0

2. Слова, оставшиеся в обоих списках, объедините, а затем разделите на две группы и укажите названия островных государств, с которыми эти понятия связаны.

1) Птица киви, гора Кука, Суоми, маори

Островное государство Новая Зеландия

2,0

Норвегия, Исландия, Япония, Республика, Иена, Мексика  
Островное государство Япония

3,5  
14

### Тестовый тур

На каждый вопрос даны четыре варианта ответов.

Выберите только один правильный и внесите его в матрицу ответов.

**Максимально 16 баллов**, по 1 баллу за каждый правильный ответ.

1. Выберите верное утверждение:

- а) Российский участок Вислинской косы называют Балтийской косой.
- б) Балтийская коса длиннее Куршской косы.
- в) На Балтийской косе нет дюн.
- г) Российский участок Вислинской косы называют Куршской косой.

2. Выберите верное утверждение о реке Неман:

- а) Река Шешупе является притоком Немана.
- б) Неман впадает в Калининградский залив.
- в) Исток Немана находится в Калининградской области.
- г) На Немане расположен город Черняховск.

3. В Южной Америке расположено государство:

- а) ЮАР
- б) Ботсвана
- в) Ливия
- г) Боливия

4. Муссонные дожди часто вызывают наводнения на реке:

- а) Енисей
- б) Хуанхэ
- в) Дунай
- г) Тигр

5. Какой стране принадлежат Канарские острова?

- а) Марокко
- б) Португалия
- в) Алжир
- г) Испания

6. Какой остров раньше носил название Цейлон?

- а) Сахалин
- б) Исландия
- в) Шри-Ланка
- г) Хоккайдо

7. Как называется столица Канады?

- а) Монреаль
- б) Квебек
- в) Ванкувер
- г) Оттава

8. Выберите город с наибольшей численностью населения:



- а) Саратов                                      б) Самара                                      в) Сыктывкар                                      г) Салехард

9. Как называется высшая точка Уральских гор?

- а) Победа                                      б) Казбек                                      в) Народная                                      г) Белуха

10. Если годовое количество осадков составляет 700 мм, а испаряемость – 300 мм, каким является увлажнение?

- а) избыточное                                      б) недостаточное                                      в) достаточное                                      г) скудное

11. Для какой природной зоны характерны каштановые почвы?

- а) лесостепь                                      б) тайга  
в) широколиственные леса                                      г) сухая степь

12. Как называется возвышенность, на которой берёт начало Днепр?

- а) Приволжская                                      б) Смоленско-Московская  
в) Среднерусская                                      г) Валдайская

13. Выберите верное утверждение:

- а) Верхоянский хребет относится к эпохе мезозойской складчатости.  
б) Кавказ относится к эпохе герцинской складчатости.  
в) Алтай относится к эпохе кайнозойской складчатости.  
г) Уральские горы относятся к эпохе каледонской складчатости.

14. Какой географический объект на карте России расположен восточнее других?

- а) Сихотэ-Алинь                                      б) Яблоновый хребет  
в) Восточный Саян                                      г) Северные Увалы

15. На территории какого субъекта РФ находится Уссурийский заповедник?

- а) Магаданская область                                      б) Хабаровский край  
в) Приморский край                                      г) Амурская область

16. Выберите наиболее ранний период геологической истории Земли:

- а) кембрийский                                      б) силурийский                                      в) меловой                                      г) пермский

**Матрица для записи ответов**



1	2	3	4	5	6	7	8	9	10
m)	b)	v)	d) -	v)	d)	m)	d) -	b)	d)
-	-	+	+	+	-	+	+	+	+

11	12	13	14	15	16
v)	v)	b) -	d) -	m)	d)
+	+	-	+	-	+

//

Фамилия, имя, класс

Жапар Андрей В Е

Шифр  
Г (География)  
8 класс № 4

Шифр  
Г (География)  
8 класс № 4

Всероссийская олимпиада школьников по географии. 2023-2024 учебный год.

Школьный этап. 8 класс

Начинать работу можно с любого задания, однако, мы рекомендуем выполнять задания в том порядке, в котором они даны. Если какое-то задание вызывает у вас затруднение, пропустите его и постарайтесь выполнить те, в ответах на которые вы уверены. К пропущенным заданиям можно будет вернуться, если у вас останется время.

Общее время выполнения работы - 90 минут

Максимальная сумма баллов – 64

Во время выполнения заданий не допускается использование атласов и других источников информации.

### Теоретический тур

#### Задание 1. (6 баллов)

Ниже перечислены утверждения об одной из частей света. Определите, о какой части света идёт речь, и укажите номера двух лишних утверждений. К каким частям света относятся лишние утверждения? Назовите пункт, о котором говорится в утверждении № 6.

1. В этой части света обитает большая панда.
2. В этой части света занимался исследованиями Н.М.Пржевальский.
3. В этой части света находится мыс Рока.
4. В этой части света обитает страус нанду.
5. В этой части света самая высокая численность населения.
6. В этой части света находится пункт, где отмечено максимальное количество осадков на Земле.
7. В этой части света находится отметка высоты 8848 м.

Часть света Азия +

Лишнее утверждение: номер 3 + часть света Антарктида

Лишнее утверждение: номер 4 + часть света Австралия

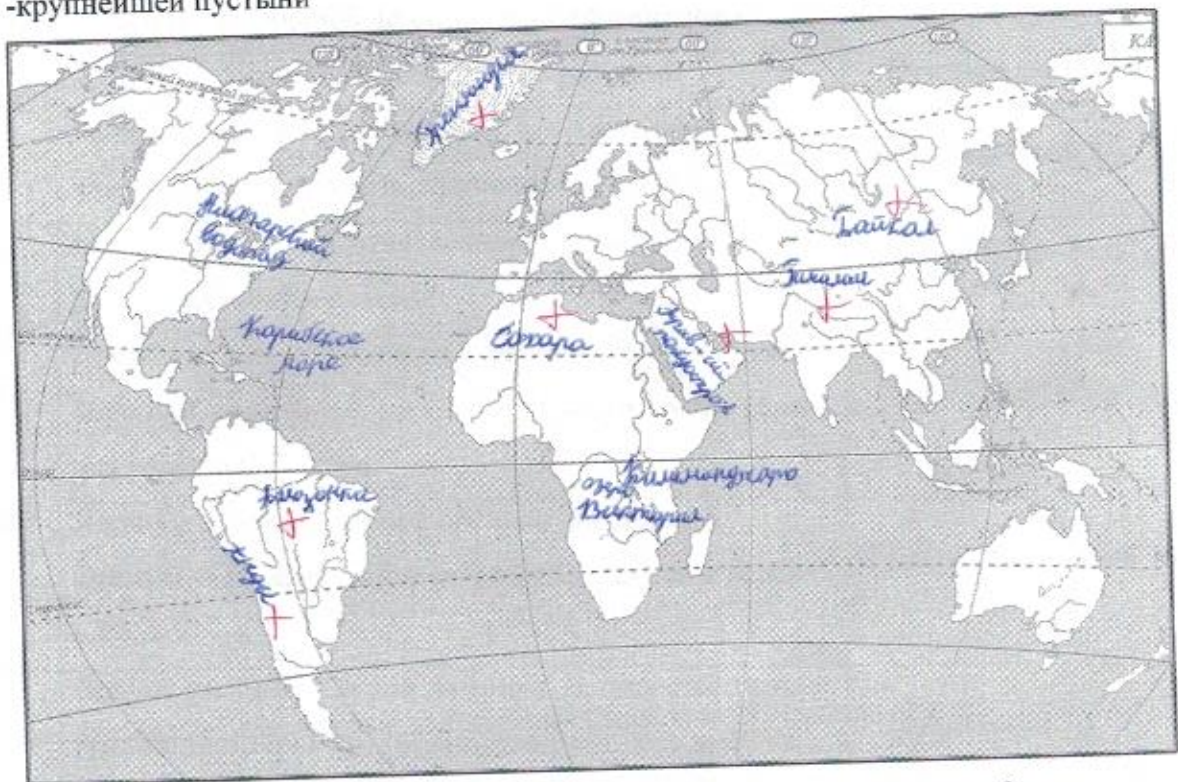
Пункт \_\_\_\_\_

425

100  
Задание 2. (14 баллов)

Вспомните природные рекорды мира. На контурной карте надпишите названия географических объектов-рекордсменов:

- самого глубокого озера
- самого большого по площади озера
- высочайшего водопада
- самого высокого действующего вулкана
- крупнейшего острова
- самой длинной и многоводной реки
- самой высокой горной системы
- самого большого моря
- самой длинной горной системы
- самого большого полуострова
- крупнейшей пустыни



Как называется крупнейшее государство самого большого полуострова?

+ Саудовская Аравия

Какому государству принадлежит самый большой остров?

+ Дания

В какой стране находится устье самой длинной реки?

+ Бразилия



05  
Задание 3. (3 балла)

В каком направлении дуют ночные бризы и почему они образуются на берегах морей?

---

---

---

---

---

---


---

---

45  
Задание 4. (9 баллов)

Дополните таблицу, выбрав названия растений из списка: виктория, раффлезия, лиственница, эвкалипт, саксаул, баобаб, финиковая пальма, кокосовая пальма, ковыль. Названия растений, не включённых в таблицу, подпишите под фотографиями.

№	Некоторые особенности растений	Названия растений
1	Вечнозелёное дерево, типичное для Австралии. Из листьев получают масло, применяемое в медицине.	↓ Эвкалипт
2	Многолетняя трава, относящаяся к злаковым и распространённая в степях.	Ковыль
3	Древесное или кустарниковое растение пустынь Азии, хороший закрепитель песков. Зелёные веточки – корм для верблюдов и овец.	Саксаул
4	Хвойное дерево с твёрдой прочной древесиной. Осенью хвоя опадает. Самое распространённое дерево в России.	↓ Лиственница
5	Водное растение Южной Америки. Листья с загнутыми краями диаметром до 2 м выдерживают груз до 50 кг.	Виктория
6	Растение тропиков и субтропиков Африки и Азии. Плоды съедобны.	↓ Финик
7	Растёт в тропиках на морских побережьях, на островах. Возделывают главным образом для получения копры.	



А) Рafflesia



Б) Баобаб

**Задание 5. (16 баллов)**

1. В каждом из двух списков найдите и выпишите по 7 понятий (это элементы духовной и материальной культуры, имена, представители органического мира и т.п.), относящихся к одной стране. Определите страны.

1) Сари, хинди, Тадж-Махал, птица киви, Рабиндранат Тагор, рупия, Хоккайдо, «Махабхарата», гора Кука, Махатма Ганди, кимоно, Акира Куросава

Псади<sup>+</sup> - Махал<sup>+</sup>, рупия<sup>+</sup>, Махатма Ганди<sup>+</sup>, Махабхарата<sup>+</sup>,  
хинди<sup>+</sup>, сари<sup>+</sup>, саама<sup>+</sup>

Страна Индия<sup>+</sup>

2) Суоми, маори, Хельсинки, Лапландия, Веллингтон, Ян Сибелиус, иена, саамы, гаттерия, «Калевала», Инариярви, хокку

Птица Киви<sup>+</sup>, Хельсинки<sup>+</sup>, Лапландия<sup>+</sup>, Ян Сибелиус<sup>+</sup>, Рабиндранат<sup>+</sup>,  
гаттерия<sup>+</sup>, Калевала<sup>+</sup>, Инариярви<sup>+</sup>

Страна Новая Зеландия<sup>+</sup> Финляндия<sup>+</sup>

2. Слова, оставшиеся в обоих списках, объедините, а затем разделите на две группы и укажите названия островных государств, с которыми эти понятия связаны.

1) Кимоно<sup>+</sup>, Хоккайдо<sup>+</sup>, Акира Куросава<sup>+</sup>, иена<sup>+</sup>, суоми<sup>+</sup>, хокку<sup>+</sup>

Островное государство Япония<sup>+</sup>

2) Веллингтон<sup>+</sup>, птица киви<sup>+</sup>, гора Кука<sup>+</sup>, маори<sup>+</sup>

Островное государство Новая Зеландия<sup>+</sup>



### Тестовый тур

На каждый вопрос даны четыре варианта ответов.

Выберите только один правильный и внесите его в матрицу ответов.

Максимально 16 баллов, по 1 баллу за каждый правильный ответ.

1. Выберите фамилию первооткрывателя Антарктиды:

а) Р.Амундсен

б) И.Крузенштерн

в) Т.Хейердал

г) Ф.Беллинсгаузен

2. Какое полезное ископаемое добывают в Калининградской области?

а) каменный уголь

б) бокситы

в) торф

г) медные руды

3. Выберите верное утверждение о реке Неман:

а) Река Шешупе является притоком Немана.

б) Неман впадает в Калининградский залив.

в) Исток Немана находится в Калининградской области.

г) На Немане расположен город Черняховск.

4. Точка с какими координатами наиболее удалена от экватора?

а)  $35^\circ$  ю.ш.  $55^\circ$  з.д.

б)  $30^\circ$  с.ш.  $45^\circ$  в.д.

в)  $55^\circ$  с.ш.  $60^\circ$  в.д.

г)  $60^\circ$  с.ш.  $35^\circ$  в.д.

5. В Южной Америке расположено государство:

а) Боливия

б) Ботсвана

в) Ливия

г) ЮАР

6. Муссонные дожди часто вызывают наводнения на реке:

а) Хуанхэ

б) Енисей

в) Дунай

г) Тигр

7. Какой стране принадлежат Канарские острова?

а) Марокко

б) Португалия

в) Алжир

г) Испания

8. Холодным течением является:

а) Бразильское

б) Перуанское

в) Гольфстрим

г) Курошио



9. Какой остров раньше носил название Цейлон?

- а) Шри-Ланка      б) Исландия      в) Сахалин      г) Хоккайдо

10. Как называется самая восточная точка Северной Америки?

- а) Кабу-Бранку       б) Сент-Чарльз  
в) Байрон      г) Рас-Хафун

11. На каком острове находится Джакарта?

- а) Ява      б) Суматра      в) Калимантан      г) Сулавеси

12. Как называется столица Канады?

- а) Монреаль      б) Квебек      в) Ванкувер       г) Оттава

13. Какая пустыня является береговой?

- а) Гоби      б) Намиб      в) Каракумы      г) Такла-Макан

14. Какое озеро Африки расположено южнее других?

- а) Рудольф      б) Танганьика       в) Ньяса      г) Чад

15. Берега какого материка омывает море Уэдделла?

- а) Северная Америка      б) Евразия      в) Австралия       г) Антарктида

16. Где обитает коала?

- а) Африка      б) Южная Америка       в) Австралия      г) Евразия

Матрица для записи ответов

1	2	3	4	5	6	7	8	9	10
<del>а</del>	<del>а</del>	<del>г</del>	+г	+а	+а	+г	<del>а</del>	+а	+б

11	12	13	14	15	16
а+	+г	<del>а</del>	+в	+г	+в

Фамилия, имя, класс Туринцов Ладомир-Васи-  
льевич Владимирович, 7 "Т" класс  
*общий кол-во : 37 баллов*

Шифр География  
7класс - 1522

Шифр География  
7класс - 1522

**Всероссийская олимпиада школьников по географии. 2023-2024 учебный год.**

**Школьный этап. 7 класс**

*Начинать работу можно с любого задания, однако, мы рекомендуем выполнять задания в том порядке, в котором они даны. Если какое-то задание вызывает у вас затруднение, пропустите его и постарайтесь выполнить те, в ответах на которые вы уверены. К пропущенным заданиям можно будет вернуться, если у вас останется время.*

**Общее время выполнения работы - 90 минут**

**Максимальная сумма баллов – 60**

*Во время выполнения заданий не допускается использование атласов и других источников информации.*

**Теоретический тур**

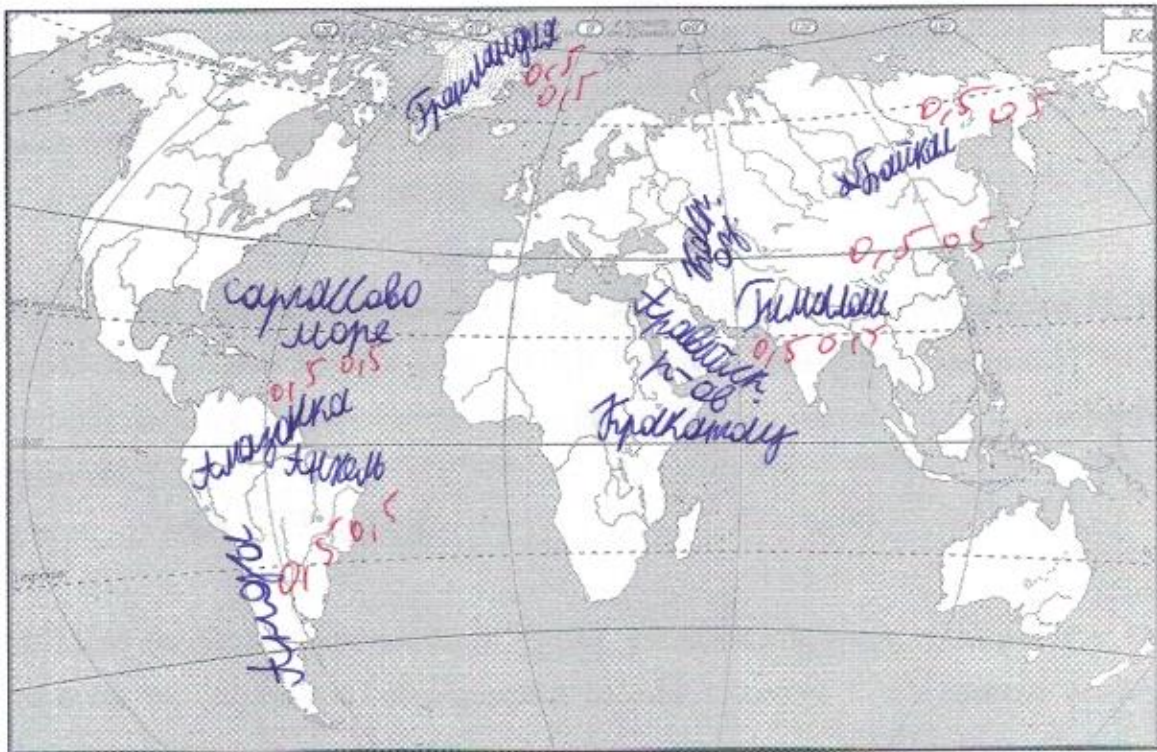
**Задание 1. (10 баллов)**

*65*

Вспомните природные рекорды мира. На контурной карте подпишите названия географических объектов-рекордсменов:

- самого глубокого озера
- самого большого по площади озера
- высочайшего водопада
- самого высокого действующего вулкана
- крупнейшего острова
- самой длинной и многоводной реки
- самой высокой горной системы
- самого большого моря
- самой длинной горной системы
- самого большого полуострова





Задание 2. (3 балла) 05

В каком направлении дуют ночные бризы и почему они образуются на берегах морей?

Ночные бризы дуют на восток и образуются на берегах морей из-за разницы температур.

Задание 3. (7 баллов) 65

Определите географические объекты по описаниям.

1) Этот пролив был открыт в 1520 году во время кругосветного плавания и назван в честь путешественника, который его возглавлял. Длина пролива 575 км, наименьшая ширина 2,2 км. Многочисленные подводные скалы и мели затрудняют здесь судоходство.

Магелланов пролив 1



2) На географических картах этот объект обозначается словом «море». Солёная вода и большие размеры объясняют, почему древние так его называли. В этот водный объект впадает Волга. На его северном побережье находится самая большая в мире низменность, расположенная ниже уровня моря.

Каспийское море 1

3) Это самое древнее озеро на Земле. Его котловина начала формироваться 25–30 млн. лет назад. Уникальные флора и фауна на 75% состоят из растений и животных, которые нигде больше на Земле не встречаются. Среди них наиболее известны омуль и живородящая рыбка голомянка.

Озеро Байкал 1

4) Море бассейна Атлантического океана, расположенное между Африкой и Евразией. С океаном его соединяет Гибралтарский пролив. С севера к его берегам выходят страны Европы, с юга – страны Северной Африки, а с востока – страны Азии. Побережье моря – территория знаменитых курортов мира.

Средиземное море 1

5) Самый широкий и глубокий пролив Земли. Он назван в честь знаменитого английского мореплавателя, командира второй (после экспедиции Ф. Магеллана) кругосветной морской экспедиции. Пролив соединяет Тихий и Атлантический океаны и разделяет Южную Америку и Антарктиду.

Пролив Дрейка 1

6) Это самая большая пустынная территория планеты. Она расположена на севере второго по величине материка, в условиях очень жаркого и сухого климата. Лишь к северу и к югу от неё расположены поселения людей.

Пустыня Сахара 1


7) Горная система, протянувшаяся между Чёрным и Каспийским морями, по которой проходит граница России с зарубежными странами. Это самые высокие горы России, высшая точка – гора Эльбрус. Вершины гор покрыты вечными снегами и ледниками. Здесь часты сходы снежных лавин.

Уральские горы 1

Задание 4. (9 баллов) **95**

Дополните таблицу, выбрав названия растений из списка: виктория, раффлезия, лиственница, эвкалипт, саксаул, баобаб, финиковая пальма, кокосовая пальма, ковыль. Названия растений, не включённых в таблицу, подпишите под фотографиями.

№	Некоторые особенности растений	Названия растений
1	Вечнозелёное дерево, типичное для Австралии. Из листьев получают масло, применяемое в медицине.	Эвкалипт <sup>1</sup>
2	Многолетняя трава, относящаяся к злаковым и распространённая в степях.	Ковыль <sup>1</sup>
3	Древесное или кустарниковое растение пустынь Азии, хороший закрепитель песков. Зелёные веточки – корм для верблюдов и овец.	Саксаул <sup>1</sup>
4	Хвойное дерево с твёрдой прочной древесиной. Осенью хвоя падает. Самое распространённое дерево в России.	Лиственница <sup>1</sup>
5	Водное растение Южной Америки. Листья с загнутыми краями диаметром до 2 м выдерживают груз до 50 кг.	Виктория <sup>1</sup>
6	Растение тропиков и субтропиков Африки и Азии. Плоды съедобны.	Финиковая пальма <sup>1</sup>
7	Растёт в тропиках на морских побережьях, на островах. Возделывают главным образом для получения копры.	Кокосовая пальма <sup>1</sup>



А) раффлезия <sup>1</sup>



Б) баобаб <sup>1</sup>

Задание 5. (15 баллов) **65**

Выберите из списка и выпишите слова (это элементы культуры, растения, животные, географические названия и т.п.), связанные с Японией и Индией:



Тадж-Махал, сакура, Колизей, Токио, «Ла Скала», рупия, Хонсю, юань, Нью-Дели, кимоно, большая панда, Фудзи, иена, хокку, Этна, бумеранг, сари, сомбреро, Буэнос-Айрес, коала  
 Оставшиеся слова внесите в таблицу, указав страны, к которым они относятся

Япония: <sup>0,5</sup> сакура, <sup>0,5</sup> Токио, <sup>0,5</sup> Хонсю, <sup>0,5</sup> кимоно, <sup>0</sup> большая панда,  
<sup>0,5</sup> Фудзи, <sup>0,5</sup> иена, <sup>0</sup> коала

Индия: <sup>0,5</sup> Тадж-Махал, <sup>0,5</sup> рупия, <sup>0</sup> хокку, <sup>0,5</sup> сари, <sup>0</sup> бумеранг,  
<sup>0</sup> Этна, <sup>0</sup> «Ла Скала»

Слова, связанные с другими странами:

Слова (элементы культуры, растения, животные, географические названия и т.п.)	Страны
юань	Китай 0,5
Колизей	Италия 0,5
сомбреро	Мексика 0,5
Нью-Дели	Северная Америка 0,5
Буэнос-Айрес	Аргентина 0

Тестовый тур <sup>10,5</sup>

На каждый вопрос даны четыре варианта ответов.

Выберите только один правильный и внесите его в матрицу ответов.

Максимально 16 баллов, по 1 баллу за каждый правильный ответ.

1. Какая горная порода является магматической?

- а) известняк      б) глина      в) гранит      г) мрамор

2. Масштаб плана 1:5000. Какому расстоянию на местности соответствует участок плана длиной 3 см?

- а) 100 м      б) 50 м      в) 15 м      г) 150 м

3. Точка с какими координатами наиболее удалена от экватора?

- а) 35° ю.ш. 55° з.д.      б) 30° с.ш. 45° в.д.



в)  $55^{\circ}$  с.ш.  $60^{\circ}$  в.д.

г)  $60^{\circ}$  с.ш.  $35^{\circ}$  в.д.

4. Какова годовая амплитуда колебаний температур, если средняя многолетняя температура января  $+2^{\circ}\text{C}$ , а средняя многолетняя температура июля  $+22^{\circ}\text{C}$ ?

а)  $20^{\circ}\text{C}$

б)  $10^{\circ}\text{C}$

в)  $24^{\circ}\text{C}$

г)  $12^{\circ}\text{C}$

5. Выберите фамилию первооткрывателя Антарктиды:

а) Р.Амундсен

б) И.Крузенштерн

в) Т.Хейердал

г) Ф.Беллинсгаузен

6. Какое государство находится в Европе?

а) Китай

б) Португалия

в) Египет

г) Перу

7. Какое полезное ископаемое добывают в Калининградской области?

а) каменный уголь

б) бокситы

в) торф

г) медные руды

8. Наибольшие значения солёности характерны для:

а) моря Бофорта

б) Северного моря

в) Карского моря

г) Красного моря

9. Какому азимуту соответствует направление строго на северо-восток?

а)  $45^{\circ}$

б)  $220^{\circ}$

в)  $135^{\circ}$

г)  $170^{\circ}$

10. Формой рельефа, образованной деятельностью ветра, является:

а) овраг

б) вулкан

в) дюна

г) курган

11. Как называется часть дна речной долины, затопляемая во время разлива реки?

а) межень

б) пойма

в) дельта

г) устье

12. На долю кислорода в составе воздуха приходится около:

а) 81%

б) 61%

в) 21%

г) 11%

13. В каком из случаев будет дуть самый сильный ветер?

а) в точке А атмосферное давление 755 мм, в точке Б 762 мм

- б) в точке А атмосферное давление 763 мм, в точке Б 758 мм
- в) в точке А атмосферное давление 744 мм, в точке Б 750мм
- г) в точке А атмосферное давление 754 мм, в точке Б 752 мм

14. Выберите верное утверждение о реке Неман:

- а) Река Шешупе является притоком Немана.
- б) Неман впадает в Калининградский залив.
- в) Исток Немана находится в Калининградской области.
- г) На Немане расположен город Черняховск.

15. Суслик и дрофа обитают:

- а) в тундре
- б) в тайге
- в) в широколиственных лесах
- г) в степях

16. Что изучают сейсмологи?

- а) ледники
- б) землетрясения
- в) ураганы
- г) озёра

**Матрица для записи ответов**

1	2	3	4	5	6	7	8	9	10
2	2	2	α	2	σ	β	α	α	β
0	1	1	1	1	1	1	0	1	1
11	12	13	14	15	16				
α	α	β	σ	2	σ				
0	0	0	0	1	1				

Фамилия, имя, класс

Б "Б"

Курочкин Артём

Шифр / География

6 класс - Б

Общее кол-во: 33 баллов

Шифр / География

6 класс Б

**Всероссийская олимпиада школьников по географии. 2023-2024 учебный год.**

**Школьный этап. 6 класс**

*Начинать работу можно с любого задания, однако, мы рекомендуем выполнять задания в том порядке, в котором они даны. Если какое-то задание вызывает у вас затруднение, пропустите его и постарайтесь выполнить те, в ответах на которые вы уверены. К пропущенным заданиям можно будет вернуться, если у вас останется время.*

**Общее время выполнения работы - 75 минут**

**Максимальная сумма баллов – 48**

*Во время выполнения заданий не допускается использование атласов и других источников информации.*

**Теоретический тур**

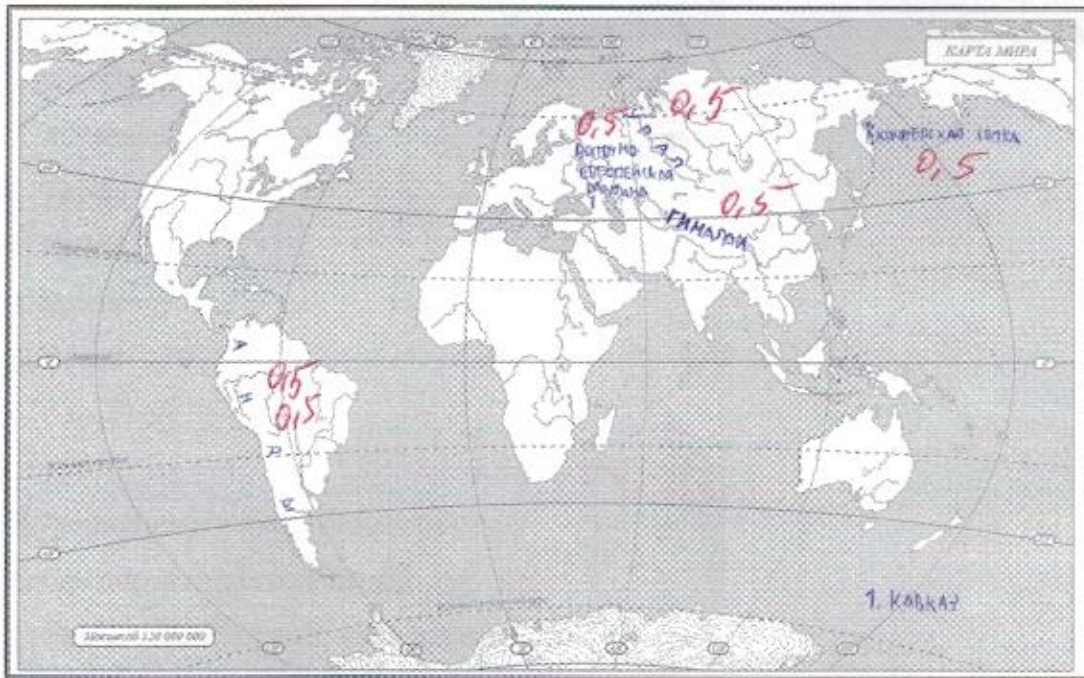
**Задание 1. (8 баллов)**

45

На контурной карте напишите названия:

- самого высокого действующего вулкана мира
- самой высокой в мире горной системы
- самой длинной в мире горной системы
- крупнейшей равнины Земли
- самой длинной горной системы России
- самой высокой горной системы России (можно обозначить цифрой и расшифровать)
- самого высокого действующего вулкана России





Как называется самая высокая горная вершина в мире?

ЭВЕРЕСТ

0,5

Как называется самая высокая горная вершина России?

ЭВЕРЕСТ

0,5

Задание 2. (2 балла)

2,5

Почему на Земле происходит смена времён года?

Из-за того что земля вращается вокруг солнца не по кругу, а больше по овалу. Чем <sup>дальше</sup> земля к солнцу тем холоднее (то есть ближе к земле), тем наоборот.

Задание 3. (3 балла)

0,5

Во время похода по родному краю его участники пользуются картой, масштаб которой 1:1 000 000. Сколько понадобится времени, чтобы проехать из одного города в другой на велосипедах со скоростью 12 км/час, если на карте расстояние между этими двумя городами по дороге равно 6 см? Ход рассуждений запишите.

1:1000 000 - значит что в одном сантиметре 1 000 000 м., то есть надо в 1000 000 и разделил это на 12, и мы получили ответ.

Задание 4. (15 баллов)

115

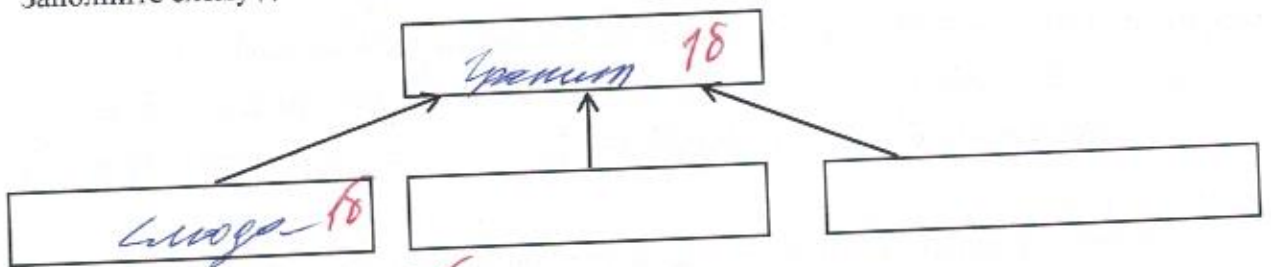
К каким полезным ископаемым относится информация? В качестве ответов укажите их порядковые номера.

1. Железная руда
2. Торф
3. Нефть
4. Гранит
5. Песок
6. Известняк

Информация о полезных ископаемых:

- 1) Состоит из трёх минералов. 4 15
- 2) Являются горючими, используются как топливо. 3 15
- 3) Из этого полезного ископаемого выплавляют чугун, сталь. 1 15
- 4) Используется в качестве удобрения, подстилки в животноводстве. 2 15
- 5) Используется для получения бензина. 3 15
- 6) Его образование связано со скелетами, раковинами морских организмов. 6 15
- 7) Состоит из кальцита. 5 05
- 8) Его образование и добыча связаны с болотами. 2 15
- 9) Является обломочной осадочной горной породой. 8 5 15
- 10) При изменении физико-химических условий превращается в мрамор. 6 15

Заполните схему для полезного ископаемого, состоящего из трёх минералов:



Задание 5. (4 балла)

35

Ответьте на вопросы, прочитав стихотворные и прозаические отрывки.

1)

А кругом на широких равнинах,

Где трава укрывает жирафа,

.....

Он раскинул тенистые рощи



Прихотливых мимоз и акаций,  
Рассадил по холмам баобабы,  
В галереях лесов, где прохладно  
И светло, как в дорическом храме,  
Он провёл многоводные реки...

О каком материке пишет Н.Гумилёв?

Африка 15

2)

\_\_\_\_\_ зев открыл – дым хлынул клубом – пламя

Широко развилось, как боевое знамя.

Земля волнуется – с шатнувшихся колонн

Кумиры падают! Народ, гонимый страхом,

Толпами, стар и млад, под воспаленным прахом,

Под каменным дождем бежит из града вон.

Название какого вулкана пропущено (напечатана линия) в строчках А.Пушкина, созданных под впечатлением картины К.Брюллова «Последний день Помпеи»? Вулкан Везувий 15

3) По этому поясу земли, говорят, широкая лента украшения прошла из дорогих камней. Всякие есть, а больше сзелена, да иссиня. Изумруды, александриты, аквамарины, аметисты. А по самой серёдке этой хребтины двойной ряд хризолитов.

О какой горной системе пишет в своих сказах П.Бажов?

Урал 15

4) Но в болотах вода не даёт родителям-растениям передать всё своё добро детям. Тысячи лет это добро под водой сохраняется, болото становится кладовой солнца, и потом вся эта кладовая солнца как \_\_\_\_\_ достаётся человеку от солнца в наследство.

Название какого полезного ископаемого пропущено (напечатана линия) в отрывке из произведения М.Пришвина «Кладовая солнца»? Жемчуг 15

### Тестовый тур

135

На каждый вопрос даны четыре варианта ответов.

Выберите только один правильный и внесите его в матрицу ответов.

Максимально 16 баллов, по 1 баллу за каждый правильный ответ.





Прихотливых мимоз и акаций,  
Рассадил по холмам баобабы,  
В галереях лесов, где прохладно  
И светло, как в дорическом храме,  
Он провёл многоводные реки...

О каком материке пишет Н.Гумилёв? Аврутия 15

2)

\_\_\_\_\_ зев открыл – дым хлынул клубом – пламя  
Широко развилось, как боевое знамя.  
Земля волнуется – с шатнувшихся колонн  
Кумиры падают! Народ, гонимый страхом,  
Толпами, стар и млад, под воспаленным прахом,  
Под каменным дождем бежит из града вон.

Название какого вулкана пропущено (напечатана линия) в строчках А.Пушкина, созданных под впечатлением картины К.Брюллова «Последний день Помпеи»? Вулкан Везувий 15

3) По этому поясу земли, говорят, широкая лента украшения прошла из дорогих камней. Всякие есть, а больше сзелена, да иссиня. Изумруды, александриты, аквамарины, аметисты. А по самой середке этой хребтины двойной ряд хризолитов. 15

О какой горной системе пишет в своих сказах П.Бажов? Урал

4) Но в болотах вода не даёт родителям-растениям передать всё своё добро детям. Тысячи лет это добро под водой сохраняется, болото становится кладовой солнца, и потом вся эта кладовая солнца как \_\_\_\_\_ достается человеку от солнца в наследство.

Название какого полезного ископаемого пропущено (напечатана линия) в отрывке из произведения М.Пришвина «Кладовая солнца»? Изумруд 15

#### Тестовый тур 135

На каждый вопрос даны четыре варианта ответов.

Выберите только один правильный и внесите его в матрицу ответов.

**Максимально 16 баллов**, по 1 баллу за каждый правильный ответ.

**Задание 4. (15 баллов)**

115

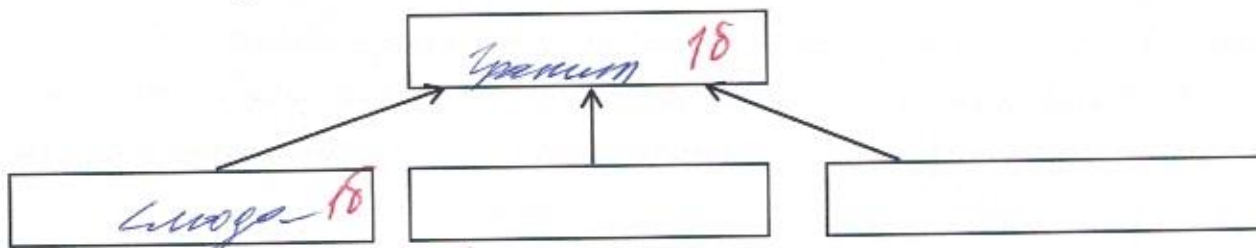
К каким полезным ископаемым относится информация? В качестве ответов укажите их порядковые номера.

1. Железная руда
2. Торф
3. Нефть
4. Гранит
5. Песок
6. Известняк

Информация о полезных ископаемых:

- 1) Состоит из трёх минералов. 4 15
- 2) Являются горючими, используются как топливо. 3 15
- 3) Из этого полезного ископаемого выплавляют чугун, сталь. 1 15
- 4) Используется в качестве удобрения, подстилки в животноводстве. 2 15
- 5) Используется для получения бензина. 3 15
- 6) Его образование связано со скелетами, раковинами морских организмов. 6 15
- 7) Состоит из кальцита. 5 05
- 8) Его образование и добыча связаны с болотами. 2 15
- 9) Является обломочной осадочной горной породой. 8 5 15
- 10) При изменении физико-химических условий превращается в мрамор. 6 15

Заполните схему для полезного ископаемого, состоящего из трёх минералов:



**Задание 5. (4 балла)**

35

Ответьте на вопросы, прочитав стихотворные и прозаические отрывки.

1)

А кругом на широких равнинах,

Где трава укрывает жирафа,

.....

Он раскинул тенистые рощи



Фамилия, имя, класс Брушевич Александр Петрович  
выс. 5 № класс.

Шифр География  
5 класс - №1

Шифр География  
5 класс - №1

**Всероссийская олимпиада школьников по географии. 2023-2024 учебный год.**  
**Школьный этап. 5 класс**

*Начинать работу можно с любого задания, однако, мы рекомендуем выполнять задания в том порядке, в котором они даны. Если какое-то задание вызывает у вас затруднение, пропустите его и постарайтесь выполнить те, в ответах на которые вы уверены. К пропущенным заданиям можно будет вернуться, если у вас останется время.*

**Общее время выполнения работы - 75 минут**

**Максимальная сумма баллов – 62**

*Во время выполнения заданий не допускается использование атласов и других источников информации.*

**Теоретический тур**

**Задание 1. (6 баллов)**

Отгадайте загадки:

1) Он и летом, и зимой –  
Между небом и землёй.  
Хоть всю жизнь к нему иди –  
Он всё время впереди!

Горизонт 1.5

2) Безобидны, травоядны,  
Не в полосках и не в пятнах,  
Сумка есть и длинный хвост,  
Плюс к тому – немалый рост.  
Австралийскую жару  
Очень любят ...

Кенгуру 1.0

19.50

3) Он король полярных льдин,  
 Черно-белый господин.  
 Ух, для птички он велик!  
 Ходит очень важно.  
 Самый южный материк  
 Заселил отважно.

15

Пингвин

4) Подрастал, подрастал,  
 Был рогатым – круглым стал.  
 Только круг, чудо-круг,  
 Стал опять рогатым вдруг.

Куст + ов

5) Утром бусы засверкали,  
 Всю траву собой заткали,  
 А пошли искать их днём –  
 Ищем, ищем – не найдём!

1

Тоса

6) Все обходят это место:  
 Здесь земля – как будто тесто,  
 Тут осока, кочки, мхи,  
 Нет опоры для ноги.

1

Балото

**Задание 2. (17 баллов)**

Заполните таблицу, используя список растений и животных.

Природная зона	Растения	Животные
Тундра	<p>15</p> <p>Мхи, лишайники, карликовая берёза, полярная ива, морошника, <del>ягель</del>, <del>травы</del></p>	<p>15</p> <p>Поларная сова, белая лебедушка, полярная ласка, американский суслик</p>
Тайга	<p>15</p> <p>Мхи, лишайники, <del>травы</del>, <del>кустарники</del>, <del>берёза</del>, сосна, клён, ель, <del>лиственница</del>, <del>лиственница</del></p> <p>15</p>	<p>15</p> <p>Белки, мышь, ёжик, медведь, волк, зайцы, <del>соболь</del>, <del>лисица</del></p> <p>15</p>




Пустыня	Белая пошнь, верблю- жья колючка, пере- кати-пале	Верблюдо- изюмид- ка, Исётый тушканчик, неогань	Ящурка, крутвочков- систимк печанка
---------	---------------------------------------------------------	----------------------------------------------------------	----------------------------------------------

Растения и животные: пихта, карликовая берёза, тушканчик, рябчик, белая сова, рысь, верблюжья колючка, песчанка, песок, полярная ива, северный олень, сосна, лиственница, бурундук, ель, лемминг, соболь.

### Задание 3. (10 баллов)

1) Подпишите на схематическом рисунке названия планет Солнечной системы.



2) Почему на Земле происходит смена времён года?

Потому, что у Земли орбита эвалмная, и когда Земля удаляется от солнца, то наступает зима, а когда приближается - лето.

### Задание 4. (6 баллов)

1) Выберите из списка и выпишите слова (это элементы культуры, растения, животные, географические названия и т.п.), связанные с Японией и Индией:

Тадж-Махал, сакура, Токио, рупия, Хонсю, Нью-Дели, кимоно, Фудзи, Ганг, иена, хокку, сари.

Япония:

Сакура, Токио, Фудзи, Сари





1. С какой из этих стран Россия не граничит?

- а) Индия                      б) Казахстан                      в) Китай                      г) Финляндия

2. Какие из этих морей омывают берега России?

- а) Красное и Белое                      б) Чёрное и Жёлтое  
 в) Белое и Чёрное                      г) Жёлтое и Красное

3. Какой природной зоны нет в России?

- а) степи                      б) тайги                      в) тундры                       г) саванны

4. Что в переводе с греческого языка означает слово «география»?

- а) «изучение Земли»                       б) «землеописание»  
в) «изучение природы»                      г) «описание природы»

5. Какие океаны омывают Африку?

- а) Тихий и Атлантический  
 б) Индийский и Атлантический  
в) Тихий и Индийский  
г) Северный Ледовитый и Индийский

6. Какой материк открыли позже других материков?

- а) Северную Америку                       б) Австралию                      в) Антарктиду                      г) Южную Америку

7. Как вращение Земли вокруг оси отражается на явлениях в природе?

- а) реки стекают с возвышенностей в более низкие места  
 б) происходит смена дня и ночи  
в) происходит смена времён года  
г) возникают приливы и отливы

8. Какое полезное ископаемое добывают в Калининградской области?

- а) железные руды                      б) каменный уголь  
 в) торф                      г) медные руды

9. Какой город не является столицей?

- а) Венеция                      б) Пекин                      в) Париж                      г) Минск

10. Что производят на заводе «Янтарь» в городе Калининграде?

- а) сыр                       б) украшения                      в) вагоны                      г) корабли

11. С какой страной граничит Калининградская область?

- а) Латвия                      б) Белоруссия                       в) Польша                      г) Германия

12. Какой океан является самым маленьким по площади?

- а) Тихий                       б) Северный Ледовитый  
в) Индийский                      г) Атлантический

13. В какой стране традиционной женской одеждой является сари?

- а) Индия                       б) Япония                      в) Бразилия                      г) Китай

14. На флаге какого государства изображён красный круг, символизирующий Солнце?

- а) Египет                      б) Индия                       в) Япония                      г) Китай

15. Какую достопримечательность можно увидеть в городе, основанном Петром Первым?

- а) памятник «Медный всадник»  
б) Собор Василия Блаженного  
в) Царь-колокол  
г) Третьяковскую галерею

16. Какие животные изображены на гербе Австралийского Союза?

- а) зебра и носорог                       б) кенгуру и эму  
в) колибри и ягуар                      г) павлин и панда

Матрица для записи ответов

1	2	3	4	5	6	7	8	9	10
+а	+в	+г	+д	+е	+ж	+з	+и	+к	+л

11	12	13	14	15	16
+м	+н	+о	+п	+р	+с

135  
49,5 баллов