

Муниципальное образование «Гурьевский муниципальный округ»
ВСЕРОССИЙСКАЯ ОЛИМПИАДА ШКОЛЬНИКОВ ПО ИСТОРИИ

(школьный этап)

2023 – 2024 учебный год

9 КЛАСС

Общее время выполнения работы – 120 минут

Максимальный балл – 92

Задание 1. Выберите один правильный ответ из четырех и занесите его в таблицу (10 баллов, по 1 баллу за каждый правильный ответ).

1. Какой из названных городов являлся племенным центром северян?

- 1) Новгород 2) Киев 3) Чернигов 4) Смоленск

2. Кто из названных исторических деятелей являлся современником московского князя Василия III?

- 1) монах Филофей 2) митрополит Макарий 3) протопоп Сильвестр 4) патриарх Никон

3. Какой из представленных законодательных актов был принят в эпоху дворцовых переворотов?

- 1) «Соборное уложение» 2) «Манифест о вольности дворянства»
3) «Табель о рангах» 4) «Жалованная грамота дворянству»

4. XVII в. вошёл в историю России под названием:

- 1) «блестящий» 2) «революционный» 3) «бунташный» 4) «крепостнический»

5. Великими гуманистами Европы были

- 1) Эразм Роттердамский, Томас Мор 2) Христофор Колумб, Фернан Магеллан
3) Джон Кабот, Френсис Дрейк 4) Васко да Гама, Бартоломеу Диаш

6. Великое посольство в страны Западной Европы

- 1) 1682 – 1689 гг. 2) 1687 – 1689 гг. 3) 1695 – 1699 гг. 4) 1697 – 1698 гг.

7. Что из перечисленного было причиной восстания Е. Пугачева?

- 1) Усиление крепостного гнета 2) Деятельность Уложенной комиссии
3) Неудачи России в войне с Турцией 4) Развитие промышленного производства

8. Опричнина способствовала:

- 1) укреплению военных сил государства 3) укреплению личной власти царя
2) завершению объединения русских земель 4) усилению роли земских соборов

9. Когда была провозглашена Российская империя

- 1) 1703 2) 1709 3) 1721 4) 1725

10. Знаменитыми военачальниками времени правления Павла I были

- 1) А. Меншиков и Н. Репнин 2) П. Румянцеv и П. Салтыков
3) Н. Новиков и А. Радищев 4) Ф. Ушаков и А. Суворов

1	2	3	4	5	6	7	8	9	10
1	3	2	4	1	4	2	3	4	4

Задание 2. Определите и запишите принцип образования каждого логического ряда, найдите и выпишите лишний элемент в каждом ряду. Объясните, почему данный элемент является лишним [1 балл за принцип, 1 балл за лишний элемент в каждом ряду; максимальный балл – 8 баллов].

- 2.1. Зипун, кистень, кафтан, ~~ферязь~~. - *одежда* 1
 2.2. Русская правда, ~~домострой~~, Судебник, Соборное уложение. - *Свои законы* 2
 2.3. Полтавская баталия, ~~Чесменский бой~~, Гангутское сражение, битва у острова Гренгам. - *Трагедия* 2
 2.4. Дмитрий Боброк Волынский, Мстислав Удалой, Владимир Андреевич Храбрый, Дмитрий Иванович. *не является сражением Северная война*

Задание 3. Расположите исторических личностей в хронологической последовательности их жизни и деятельности. Запишите цифры, которыми обозначены исторические личности, в правильной последовательности (5 баллов)

- 1) Дмитрий Шемяка 2) Фёдор Иоаннович 3) Николай Павлович
 4) Софья Алексеевна 5) Елена Глинская

2-5-3-4-1

Задание 4. Установите соответствие между элементами левого и правого столбиков. Каждому научному и техническому изобретению (достижению) и подберите фамилию его автора. Одному элементу левого столбика соответствуют один элемент правого столбика. Два элемента лишние. (Каждый правильный ответ – 1 балла, максимальный балл – 6).

Научные и технические изобретения (достижения)	Авторы
1. изучение вопросов древнейшей истории России	А. А.К. Нартов
2. первый токарный станок в России	Б. М.В. Ломоносов
3. разработка основ минералогии и возрождение традиций мозаики в России	В. В. Беринг
4. изобретение книгопечатания	Г. И. Гутенберг
5. разработка метода графического изображения соотношений множеств в виде кругов	Д. Г.Ф. Миллер
6. проведение научной экспедиции вокруг Камчатки	Е. И.П. Кулибин
	Ж. Л. Эйлер
	З. Е. Хабаров

1	2	3	4	5	6
<i>З</i>	<i>А ✓</i>	<i>Б ✓</i>	<i>В -</i>	<i>Г -</i>	<i>Д ✓</i>

Задание 5 Рассмотрите картину и ответьте на вопросы. (По 2 балла за каждый правильный ответ, максимальный балл – 30).



5.1. Какое историческое событие изображено на картине? (правильный ответ – 2 балла) Когда произошло это событие (укажите с точностью до года)? (правильный ответ – 2 балла, максимальный балл – 4)

4) Коронация Ивана IV (пробужден царем) 1547 г.

5.2. Кто и в отношении кого совершил обряд (назовите правителя и церковного главу)? (каждый правильный ответ – 2 балла) Укажите годы правления, изображенного на картине правителя. (правильный ответ – 2 балла, максимальный балл – 6)

4) Митрополит Макарий пробужден царем Иваном IV
1544 – 1582 г.

5.3. Какой новый титул принял правитель Русского государства? (правильный ответ – 2 балла) От какого другого известного титула он был произведен? (правильный ответ – 2 балла, максимальный балл – 4)

4) Новый титул: царь всея Руси. От царей Византии

5.4. Назовите имена родителей правителя, изображенного на картине. (каждый правильный ответ – 2 балла, максимальный балл – 4)

4) Василий III и Елена Глинская

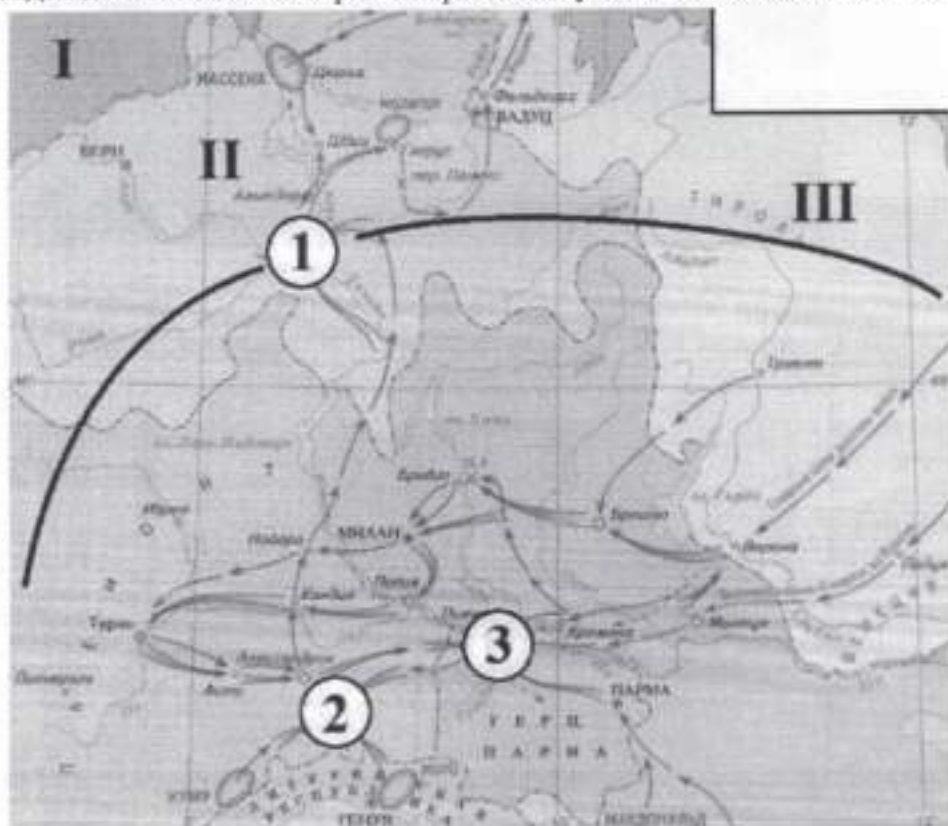
5.5. Какое значение имело это историческое событие? Приведите два факта (каждый правильный ответ – 2 балла, максимальный балл – 4)

4) 1) Пробуждение Ивана IV царем (раньше всея князь) началось с титулом Царь
2) Иван IV стал царем всея Руси, тем самым увеличил свои владения над городами и деревнями.

8
5.6. Какие другие события произошли в правление изображенного на картине правителя? Назовите четыре события (каждый правильный ответ – 2 балла, максимальный балл – 8)

- 1) Взятие Анапасского ханства 2
- 2) Взятие Кавказского ханства 2
- 3) Кавказская война 2
- 4) Ташкентская операция 2

Задание 6 Внимательно рассмотрите схему и выполните задания. Максимум – 13 баллов



6.1 Укажите портрет российского императора, в правление которого происходили события, отражённые на схеме (Максимум за задание - 1 балл).



6.2 Выберите на карте и укажите цифру, обозначающую местоположение сражения, которому посвящено приведённое изображение (максимум 1 балл). 2



6.3 Соотнесите названия государств с римскими цифрами, которыми обозначены их территории (По 1 баллу за каждую верную пару. Максимум за задание – 3 балла).

I	✓	Франция
II		Речь Посполитая
III	✓	Герцогство Ломбардия
		Австрия
		Куршюршество Бавария
		Швейцария

6.4 Выберите верные утверждения. (по 2 балла за верно указанное, максимум – 8 баллов)

1. События, отражённые на схеме, были частью войны Третьей антифранцузской коалиции. ✓
2. Руководителем русских войск в событиях, отражённых на схеме, был М.И. Кутузов. ✓
3. Римской цифрой I обозначена территория государства-союзника России в событиях, отражённых на схеме. ✓
4. В событиях, отражённых на схеме, принимали участие такие военачальники, как Э.-Ж.-Ж.-А. Макдональд, А. Массена и Ж.-В. Моро. ✓
5. Государство, территория которого обозначена римской цифрой III, было противником России в отражённых на схеме событиях. ✓
6. Одним из результатов событий, отражённых на схеме, стало укрепление сотрудничества России и Англии. ✓
7. По итогам участия в событиях, отражённых на схеме, руководителю русских войск присвоили почётное воинское звание генералиссимуса. ✓
8. На карте указано название реки, на которой одержали победу русские войска в ходе обозначенных событий, а также - войска Ганнибала за две тысячи семнадцать лет до этого. ✓
9. На карте обозначено название города – торговой республики в Средние века, владельца колоний в северном Причерноморье. ✓
10. На карте обозначен город, который в XIV веке римские папы вынуждены были сделать своей резиденцией. ✓

Задание 7 Историческое сочинение – эссе (20 баллов).

Вам необходимо написать историческое сочинение об ОДНОМ из периодов истории России:

- 1) 862–945 гг.;
- 2) 1604–1613 гг.;
- 3) 1725–1762 гг.

4) 1812 год

В сочинении необходимо: - указать значимые события данного периода (4 балла) - назвать три исторические личности, принадлежащие данному периоду (3 балла) и охарактеризовать их деятельность - указать роль и значение данного периода в истории России (до 10 баллов). В ходе изложения необходимо корректно использовать исторические термины и понятия (3 балла)

4)

Думая написать, что это некое интересное историческое событие России, мы имеем в виду Отечественную войну 1812 года.

Война с Наполеоном в 1812 году имеет большое значение не только для России, но и для всей Европы. Это была война с тем знаменитым французским императором, который совершил "Путешествие в Россию" и Ю. Фрунзе. Именно на то, что произошло в результате русско-французской войны, при помощи которой удалось победить Наполеона. Русские солдаты проявили и тогда героический героизм до Москвы, а затем даже после, и ее разрушения, а это обстоятельство сыграло в этот момент в России исключительную роль в жизни народа, от которой Наполеон не уходил. Его армия умирала от голода и жажды и русские солдаты французов победили над Наполеоном не только под Москвой, но и в битве при Бородине и в России, но и победила на год войны Европа с Наполеоном. По итогу разгромив французов Россия стала одним из самых могущественных и влиятельных государств в Европе.

Очень важно помнить подвиги всех героев войны. Не менее важно знать и русские солдаты с полководцами, которые смогли в 1812 году сделать Россию сильнее в то время армия-француз, тем самым выведет Россию на новый уровень.

Шифр U-9-06

Муниципальное образование «Гурьевский муниципальный округ»
ВСЕРОССИЙСКАЯ ОЛИМПИАДА ШКОЛЬНИКОВ ПО ИСТОРИИ

(школьный этап)

2023 – 2024 учебный год

9 КЛАСС

Общее время выполнения работы – 120 минут

Максимальный балл – 92

Задание 1. Выберите один правильный ответ из четырех и занесите его в таблицу (10 баллов, по 1 баллу за каждый правильный ответ).

1. Какой из названных городов являлся племенным центром северян?

- 1) Новгород 2) Киев 3) Чернигов 4) Смоленск

2. Кто из названных исторических деятелей являлся современником московского князя Василия III?

- 1) монах Филофей 2) митрополит Макарий 3) протопоп Сильвестр 4) патриарх Никон

3. Какой из представленных законодательных актов был принят в эпоху дворцовых переворотов?

- 1) «Соборное уложение» 2) «Манифест о вольности дворянства»
3) «Табель о рангах» 4) «Жалованная грамота дворянству»

4. XVII в. вошёл в историю России под названием:

- 1) «блестящий» 2) «революционный» 3) «бунташный» 4) «крепостнический»

5. Великими гуманистами Европы были

- 1) Эразм Роттердамский, Томас Мор 2) Христофор Колумб, Фернан Магеллан
3) Джон Кабот, Френсис Дрейк 4) Васко да Гама, Бартоломеу Диаш

6. Великое посольство в страны Западной Европы

- 1) 1682 – 1689 гг. 2) 1687 – 1689 гг. 3) 1695 – 1699 гг. 4) 1697 – 1698 гг.

7. Что из перечисленного было причиной восстания Е. Пугачева?

- 1) Усиление крепостного гнета 2) Деятельность Уложенной комиссии
3) Неудачи России в войне с Турцией 4) Развитие промышленного производства

8. Опричнина способствовала:

- 1) укреплению военных сил государства 2) укреплению личной власти царя
3) укреплению личной власти царя 4) усилению роли земских соборов

9. Когда была провозглашена Российская империя

- 1) 1703 2) 1709 3) 1721 4) 1725

10. Знаменитыми военачальниками времени правления Павла I были

- 1) А. Меншиков и Н. Репнин 2) П. Румянцев и П. Салтыков
3) Н. Новиков и А. Радищев 4) Ф. Ушаков и А. Суворов

1	2	3	4	5	6	7	8	9	10
3+	2	2+	3+	1+	4+	1+	3+	3+	4+

Задание 2. Определите и запишите принцип образования каждого логического ряда, найдите и выпишите лишний элемент в каждом ряду. Объясните, почему данный элемент является лишним [1 балл за принцип, 1 балл за лишний элемент в каждом ряду; максимальный балл – 8 баллов].

1. Зипун, кистень, кафтан, ферязь.

кадетский лакейство - все это названия

2.2. Русская правда, Домострой, Судебник, Соборное уложение.

об

2.3. Полтавская баталия, Чесменский бой, Гангутское сражение, битва у острова Гренгам.

Чесменский бой, так как все остальное было в эпоху правления Петра I

2.4. Дмитрий Боброк Волынский, Мстислав Удалой, Владимир Андреевич Храбрый, Дмитрий Иванович.

Задание 3. Расположите исторических личностей в хронологической последовательности их жизни и деятельности. Запишите цифры, которыми обозначены исторические личности, в правильной последовательности (5 баллов)

- 1) Дмитрий Шемяка 2) Фёдор Иоаннович 3) Николай Павлович
- 4) Софья Алексеевна 5) Елена Глинская

1 5 2 4 3

Задание 4. Установите соответствие между элементами левого и правого столбиков. Каждому научному и техническому изобретению (достижению) и подберите фамилию его автора. Одному элементу левого столбика соответствуют один элемент правого столбика. Два элемента лишние. (Каждый правильный ответ – 1 балла, максимальный балл – 6).

Научные и технические изобретения (достижения)	Авторы
1. изучение вопросов древнейшей истории России	А. А.К. Нартов
2. первый токарный станок в России	Б. М.В. Ломоносов
3. разработка основ минералогии и возрождение традиций мозаики в России	В. В. Беринг
4. изобретение книгопечатания	Г. И. Гутенберг
5. разработка метода графического изображения соотношений множеств в виде кругов	Д. Г.Ф. Миллер
6. проведение научной экспедиции вокруг Камчатки	Е. И.П. Кулибин
	Ж. Л. Эйлер
	З. Е. Хабаров

4

<i>1</i>	<i>2</i>	<i>3</i>	<i>4</i>	<i>5</i>	<i>6</i>
<i>Б</i>	<i>Е</i>	<i>В</i>	<i>Г</i>	<i>Ж</i>	<i>З</i>

Задание 5 Рассмотрите картину и ответьте на вопросы. (По 2 балла за каждый правильный ответ, максимальный балл – 30).

2,1 - кистень - все остальное это одежда. Соборные уложения об

2,2 - Домострой - все остальное это сборники про законов.

2,3 - Дмитрий Боброк - жил в древнюю эпоху



5.1. Какое историческое событие изображено на картине? (правильный ответ – 2 балла) Когда произошло это событие (укажите с точностью до года)? (правильный ответ – 2 балла, максимальный балл – 4)

4) Восхождение на престол ~~Бориса Годунова~~ ~~Ивана Грозного~~ в 1547 г.

5.2. Кто и в отношении кого совершил обряд (назовите правителя и церковного главу)? (каждый правильный ответ – 2 балла) Укажите годы правления, изображенного на картине правителя. (правильный ответ – 2 балла, максимальный балл – 6)

4) Патриарх ~~Новагорода~~ Митрополит Макарий в отлучении, Иван Грозный.

5.3. Какой новый титул принял правитель Русского государства? (правильный ответ – 2 балла) От какого другого известного титула он был произведен? (правильный ответ – 2 балла, максимальный балл – 4)

Царь 2

5.4. Назовите имена родителей правителя, изображенного на картине. (каждый правильный ответ – 2 балла, максимальный балл – 4)

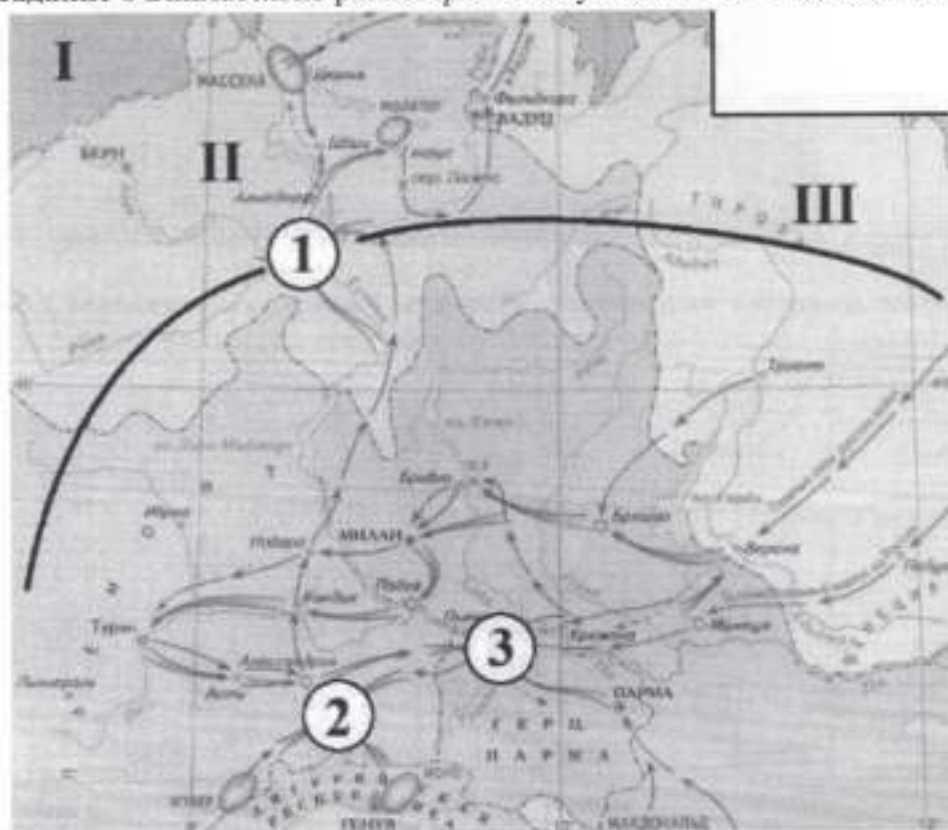
Василий III 2

5.5. Какое значение имело это историческое событие? Приведите два факта (каждый правильный ответ – 2 балла, максимальный балл – 4)


5.6. Какие другие события произошли в правление изображенного на картине правителя? Назовите четыре события (каждый правильный ответ – 2 балла, максимальный балл – 8)

Азовская война, 1556-63, 1549.

Задание 6 Внимательно рассмотрите схему и выполните задания. Максимум – 13 баллов



6.1 Укажите портрет российского императора, в правление которого происходили события, отражённые на схеме (Максимум за задание - 1 балл).



1

6.2 Выберите на карте и укажите цифру, обозначающую местоположение сражения, которому посвящено приведённое изображение (максимум 1 балл).



6.3 Соотнесите названия государств с римскими цифрами, которыми обозначены их территории (По 1 баллу за каждую верную пару. Максимум за задание – 3 балла).

I	Франция	Франция	Франция
II	Речь Посполитая	Австрия	Герцогство Ломбардия
III	Герцогство Ломбардия	Куршоршество Бавария	Швейцария

6.4 Выберите верные утверждения. (по 2 балла за верно указанное, максимум – 8 баллов)

- События, отражённые на схеме, были частью войны Третьей антифранцузской коалиции.
- Руководителем русских войск в событиях, отражённых на схеме, был М.И. Кутузов.
- Римской цифрой I обозначена территория государства-союзника России в событиях, отражённых на схеме.
- В событиях, отражённых на схеме, принимали участие такие военачальники, как Э.-Ж.-Ж.-А. Макдональд, А. Массена и Ж.-В. Моро.
- Государство, территория которого обозначена римской цифрой III, было противником России в отражённых на схеме событиях.
- Одним из результатов событий, отражённых на схеме, стало укрепление сотрудничества России и Англии.
- По итогам участия в событиях, отражённых на схеме, руководителю русских войск присвоили почётное воинское звание генералиссимуса.
- На карте указано название реки, на которой одержали победу русские войска в ходе обозначенных событий, а также - войска Ганнибала за две тысячи семнадцать лет до этого.
- На карте обозначено название города – торговой республики в Средние века, владельца колоний в северном Причерноморье.
- На карте обозначен город, который в XIV веке римские папы вынуждены были сделать своей резиденцией.

Задание 7 Историческое сочинение – эссе (20 баллов).

Вам необходимо написать историческое сочинение об ОДНОМ из периодов истории России:

- 862–945 гг.;
- 1604–1613 гг.;
- 1725–1762 гг.

4) 1812 год

В сочинении необходимо: - указать значимые события данного периода (4 балла) - назвать три исторические личности, принадлежащие данному периоду (3 балла) и охарактеризовать их деятельность - указать роль и значение данного периода в истории России (до 10 баллов). В ходе изложения необходимо корректно использовать исторические термины и понятия (3 балла)

1425-1462 - это эпоха дворцовых переворотов. В 1425 состоялся первый дворцовый переворот Екатерины Старицы. Правивла она до 1437 года. После нее к власти пришел Петр I. Но он проправил всего до 1430. После этого произошел 2 дворцовый переворот Анна Ивановна. За свое правление она успела провести одну реформу. После нее был 3 дворцовый переворот в 1441 пришла к власти Елизавета Петровна (1441-1462) Она успела провести много реформ, а также войны с Пруссией. До начала семилетней война 1456-1463. Это было очень важное время для страны, война, практически была выиграна, но Елизавета Петровна резко умирает в 1462 и к власти приходит Петр III король возвращается все земли Пруссии. Эпоха дворцовых переворотов очень важна для нас, так как за это время было проведено много реформ, также как и многие войны, дворцы казнили много стрел. Восстание под предводительством Пугачева также сыграло важную роль.

Шифр 11-9-08

Муниципальное образование «Гурьевский муниципальный округ»
ВСЕРОССИЙСКАЯ ОЛИМПИАДА ШКОЛЬНИКОВ ПО ИСТОРИИ

(школьный этап)

2023 – 2024 учебный год

9 КЛАСС

Общее время выполнения работы – 120 минут

Максимальный балл – 92

Задание 1. Выберите один правильный ответ из четырех и занесите его в таблицу (10 баллов, по 1 баллу за каждый правильный ответ).

1. Какой из названных городов являлся племенным центром северян?
 1) Новгород 2) Киев 3) Чернигов 4) Смоленск

2. Кто из названных исторических деятелей являлся современником московского князя Василия III?
1) монах Филофей 2) митрополит Макарий 3) протопоп Сильвестр 4) патриарх Никон

3. Какой из представленных законодательных актов был принят в эпоху дворцовых переворотов?
1) «Соборное уложение» 2) «Манифест о вольности дворянства»
3) «Табель о рангах» 4) «Жалованная грамота дворянству»

4. XVII в. вошёл в историю России под названием:
1) «блестящий» 2) «революционный» 3) «бунташный» 4) «крепостнический»

5. Великими гуманистами Европы были
1) Эразм Роттердамский, Томас Мор 2) Христофор Колумб, Фернан Магеллан
3) Джон Кабот, Френсис Дрейк 4) Васко да Гама, Бартоломеу Диаш

6. Великое посольство в страны Западной Европы
1) 1682 – 1689 гг. 2) 1687 – 1689 гг. 3) 1695 - 1699гг. 4) 1697 – 1698 гг.

7. Что из перечисленного было причиной восстания Е. Пугачева?
 1) Усиление крепостного гнета 2) Деятельность Уложенной комиссии

1.1. Зипун, кистень, кафтан, ферязь. 0

2.2. Русская правда, Домострой, Судебник, Соборное уложение. 9

2.3. Полтавская баталия, Чесменский бой, Гангутское сражение, битва у острова Гренгам. 9 0

2.4. Дмитрий Боброк Вольнский, Мстислав Удалой, Владимир Андреевич Храбрый, Дмитрий Иванович.

Задание 3. Расположите исторических личностей в хронологической последовательности их жизни и деятельности. Запишите цифры, которыми обозначены исторические личности, в правильной последовательности (5 баллов)

- 1) Дмитрий Шемяка 2) Фёдор Иоаннович 3) Николай Павлович
4) Софья Алексеевна 5) Елена Глинская

1, 5, 2, 4, 3.

Задание 4. Установите соответствие между элементами левого и правого столбиков. Каждому научному и техническому изобретению (достижению) и подберите фамилию его автора. Одному элементу левого столбика соответствуют один элемент правого столбика. Два элемента лишние.

(Каждый правильный ответ – 1 балла, максимальный балл – 6).

Научные и технические изобретения (достижения)	Авторы
1. изучение вопросов древнейшей истории России	А. А.К. Нартов
2. первый токарный станок в России	Б. М.В. Ломоносов
3. разработка основ минералогии и возрождение традиций мозаики в России	В. В. Беринг
4. изобретение книгопечатания	Г. И. Гутенберг
5. разработка метода графического изображения соотношений множеств в виде кругов	Д. Г.Ф. Миллер
6. проведение научной экспедиции вокруг Камчатки	Е. И.П. Кулибин
	Ж. Л. Эйлер
	З. Е. Хабаров

1	2	3	4	5	6
Ж. Л. Эйлер	А. А. К. Нартов	Д. Г. Ф. Миллер	Е. И. П. Кулибин	В. В. Беринг	З. Е. Хабаров

Задание 5 Рассмотрите картину и ответьте на вопросы. (По 2 балла за каждый правильный ответ, максимальный балл – 30).



5.1. Какое историческое событие изображено на картине? (правильный ответ – 2 балла) Когда произошло это событие (укажите с точностью до года)? (правильный ответ – 2 балла, максимальный балл – 4)

Вознесение на престол Ивана Грозного. ¹⁵⁴⁷ 1547 год
(2) (2)

5.2. Кто и в отношении кого совершил обряд (назовите правителя и церковного главу)? (каждый правильный ответ – 2 балла) Укажите годы правления, изображенного на картине правителя. (правильный ответ – 2 балла, максимальный балл – 6)

Митрополит Макарий ⁽²⁾ коронует Ивана Грозного. (2)
Годы правления Ивана Грозного (1547 - 1584) (2)

5.3. Какой новый титул принял правитель Русского государства? (правильный ответ – 2 балла) От какого другого известного титула он был произведен? (правильный ответ – 2 балла, максимальный балл – 4)

Иван Грозный принял для себя новый титул Царя. Он был произведен от Священнического титула Король.

5.4. Назовите имена родителей правителя, изображенного на картине. (каждый правильный ответ – 2 балла, максимальный балл – 4)

Отец Владимир III князь, мать Елена Глинская.
(2) (2)

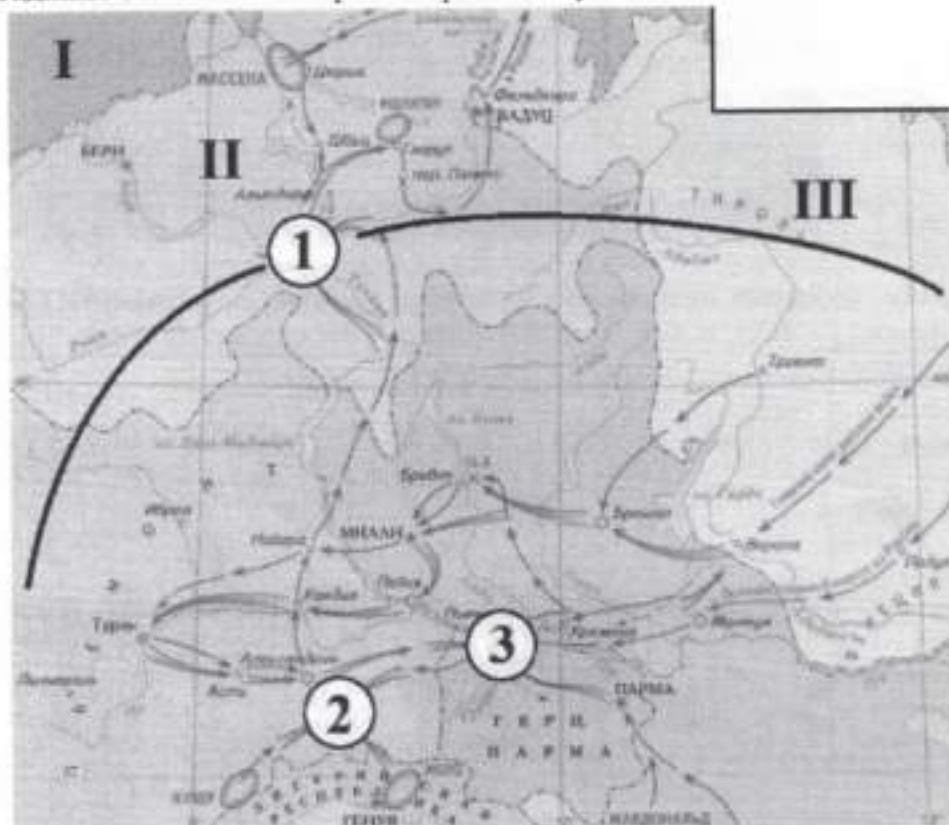
5.5. Какое значение имело это историческое событие? Приведите два факта (каждый правильный ответ – 2 балла, максимальный балл – 4)

Укрепление ~~и~~ государства, освоение новых земель, ~~во~~ отношении смертности во время Опричнины, походы Ермака на Сибирь.

5.6. Какие другие события произошли в правление изображенного на картине правителя? Назовите четыре события (каждый правильный ответ – 2 балла, максимальный балл – 8)

Появление Земского собора, поход Ермака и присоединение Сибири, Отречение, разделение земли на Царскую, Патриаршую и Княжескую.

Задание 6 Внимательно рассмотрите схему и выполните задания. Максимум – 13 баллов



6.1 Укажите портрет российского императора, в правление которого происходили события, отражённые на схеме (Максимум за задание - 1 балл).



15

6.2 Выберите на карте и укажите цифру, обозначающую местоположение сражения, которому посвящено приведённое изображение (максимум 1 балл).

1



6.3 Соотнесите названия государств с римскими цифрами, которыми обозначены их территории (По 1 баллу за каждую верную пару. Максимум за задание – 3 балла).

I		Франция
II		Речь Посполитая
III		Герцогство Ломбардия
		Австрия
		Куршоршество Бавария
		Швейцария

6.4 Выберите верные утверждения. (по 2 балла за верно указанное, максимум – 8 баллов)

1. События, отражённые на схеме, были частью войны Третьей антифранцузской коалиции.
2. Руководителем русских войск в событиях, отражённых на схеме, был М.И. Кутузов.
3. Римской цифрой I обозначена территория государства-союзника России в событиях, отражённых на схеме.
4. В событиях, отражённых на схеме, принимали участие такие военачальники, как Э.-Ж.-Ж.-А. Макдональд, А. Массена и Ж.-В. Моро.
5. Государство, территория которого обозначена римской цифрой III, было противником России в отражённых на схеме событиях.
6. Одним из результатов событий, отражённых на схеме, стало укрепление сотрудничества России и Англии.
7. По итогам участия в событиях, отражённых на схеме, руководителю русских войск присвоили почётное воинское звание генералиссимуса.
8. На карте указано название реки, на которой одержали победу русские войска в ходе обозначенных событий, а также - войска Ганнибала за две тысячи семнадцать лет до этого.
9. На карте обозначено название города – торговой республики в Средние века, владельца колоний в северном Причерноморье.
10. На карте обозначен город, который в XIV веке римские папы вынуждены были сделать своей резиденцией.

Задание 7 Историческое сочинение – эссе (20 баллов).

Вам необходимо написать историческое сочинение об ОДНОМ из периодов истории России:

- 1) 862–945 гг.;
- 2) 1604–1613 гг.;
- 3) 1725–1762 гг.

4) 1812 год

В сочинении необходимо: - указать значимые события данного периода (4 балла) - назвать три исторические личности, принадлежащие данному периоду (3 балла) и охарактеризовать их деятельность - указать роль и значение данного периода в истории России (до 10 баллов). В ходе изложения необходимо корректно использовать исторические термины и понятия (3 балла)

Период с 1725 по 1762, называется Реформами
преобразования, осуществлёнными ПЕТРОМ I. Документ устро-
ивший переворот называется Законом о престолонаследии
При смерти ВЕТО не успев подыскать преемника
на престол и в 1725 году на престол взошла
Екатерина I Екатерина I жена Петра. Она успела
реорганизовать ~~устранить~~ монархическую власть и
заменила избирательный орган на Сенат.
1739 год Анна Ивановна Шувалова на престол во-
шла со своим супругом Фридрихом. В России
начинают массово закрывать школы. 1760 г
правление Елизаветы I, Елизаветы были вынуждены
компромиссом с Пруссией и поэтому отдала завоеванные
земли обратно им, по условиям России в ходе
Русско-Прусской войны. И наконец 1762, на престол
взошла в ходе революционного переворота
Екатерина II. Главнейший переворот монархии заметим
выход дворянства. Был принят документ под на-
ванием Хашованной Уралиста дворянству, дворяне
стали очень организованнее и в ходе этих реформ
произошло восстание Емельяна Пугачёва, а так
же Русско-Турецкая война. Этот война - Россия
получила выход в Азов, трижды стали свободными

4+3+5

33

Шифр Ц-9-09

Муниципальное образование «Гурьевский муниципальный округ»
ВСЕРОССИЙСКАЯ ОЛИМПИАДА ШКОЛЬНИКОВ ПО ИСТОРИИ

(школьный этап)

2023 – 2024 учебный год

9 КЛАСС

Общее время выполнения работы – 120 минут

Максимальный балл – 92



Задание 1. Выберите один правильный ответ из четырех и занесите его в таблицу (10 баллов, по 1 баллу за каждый правильный ответ).

1. Какой из названных городов являлся племенным центром северян?

- 1) Новгород 2) Киев 3) Чернигов 4) Смоленск

2. Кто из названных исторических деятелей являлся современником московского князя Василия III?

- 1) монах Филофей 2) митрополит Макарий 3) протопоп Сильвестр 4) патриарх Никон

3. Какой из представленных законодательных актов был принят в эпоху дворцовых переворотов?

- 1) «Соборное уложение» 2) «Манифест о вольности дворянства»
3) «Табель о рангах» 4) «Жалованная грамота дворянству»

4. XVII в. вошёл в историю России под названием:

- 1) «блестящий» 2) «революционный» 3) «бунташный» 4) «крепостнический»

5. Великими гуманистами Европы были

- 1) Эразм Роттердамский, Томас Мор 2) Христофор Колумб, Фернан Магеллан
3) Джон Кабот, Френсис Дрейк 4) Васко да Гама, Бартоломеу Диаш

6. Великое посольство в страны Западной Европы

- 1) 1682 – 1689 гг. 2) 1687 – 1689 гг. 3) 1695 – 1699 гг. 4) 1697 – 1698 гг.

7. Что из перечисленного было причиной восстания Е. Пугачева?

- 1) Усиление крепостного гнета 2) Деятельность Уложенной комиссии
3) Неудачи России в войне с Турцией 4) Развитие промышленного производства

8. Опричнина способствовала:

- 1) укреплению военных сил государства 3) укреплению личной власти царя
2) завершению объединения русских земель 4) усилению роли земских соборов

9. Когда была провозглашена Российская империя

- 1) 1703 2) 1709 3) 1721 4) 1725

10. Знаменитыми военачальниками времени правления Павла I были

- 1) А. Меншиков и Н. Репнин 2) П. Румянцев и П. Салтыков
3) Н. Новиков и А. Радищев 4) Ф. Ушаков и А. Суворов

1	2	3	4	5	6	7	8	9	10
58	4	2	4	7	4	7	3	3	2

Задание 2. Определите и запишите принцип образования каждого логического ряда, найдите и выпишите лишний элемент в каждом ряду. Объясните, почему данный элемент является лишним [1 балл за принцип, 1 балл за лишний элемент в каждом ряду; максимальный балл – 8 баллов].

- 2.1. Зипун, кистень, кафтан, фезырь. *Коо Кафтан - одежда*
- 2.2. Русская правда, Домострой, Судебник, Соборное уложение. *Домострой - книга, а не свод правил*
- 2.3. Полтавская баталия, Чесменский бой, Гангутское сражение, битва у острова Гренгам. *Чесменский бой - русско-турецкая война*
- 2.4. Дмитрий Боброк Волынский, Мстислав Удалой, Владимир Андреевич Храбрый, Дмитрий Иванович. *Мстислав Удалой - князь, правитель*

Задание 3. Расположите исторических личностей в хронологической последовательности их жизни и деятельности. Запишите цифры, которыми обозначены исторические личности, в правильной последовательности (5 баллов)

- 1) Дмитрий Шемяка 2) Фёдор Иоаннович 3) Николай Павлович
4) Софья Алексеевна 5) Елена Глинская

5 → 1 → 4 → 2 → 3
51423

Задание 4. Установите соответствие между элементами левого и правого столбиков. Каждому научному и техническому изобретению (достижению) и подберите фамилию его автора. Одному элементу левого столбика соответствуют один элемент правого столбика. Два элемента лишние. (Каждый правильный ответ – 1 балла, максимальный балл – 6).

Научные и технические изобретения (достижения)	Авторы
1. изучение вопросов древнейшей истории России	А. А.К. Нартов
2. первый токарный станок в России	Б. М.В. Ломоносов
3. разработка основ минералогии и возрождение традиций мозаики в России	В. В. Беринг
4. изобретение книгопечатания	Г. И. Гутенберг
5. разработка метода графического изображения соотношений множеств в виде кругов	Д. Г.Ф. Миллер
6. проведение научной экспедиции вокруг Камчатки	Е. И.П. Кулибин
	Ж. Л. Эйлер
	З. Е. Хабаров

1	2	3	4	5	6
<i>Б</i>	<i>Е</i>	<i>Д</i>	<i>Г</i>	<i>Ж</i>	<i>З</i>

Задание 5 Рассмотрите картину и ответьте на вопросы. (По 2 балла за каждый правильный ответ, максимальный балл – 30).



5.1. Какое историческое событие изображено на картине? (правильный ответ – 2 балла) Когда произошло это событие (укажите с точностью до года)? (правильный ответ – 2 балла, максимальный балл – 4)

Начало правления Ивана IV Грозного (2)

5.2. Кто и в отношении кого совершил обряд (назовите правителя и церковного главу)? (каждый правильный ответ – 2 балла) Укажите годы правления, изображенного на картине правителя. (правильный ответ – 2 балла, максимальный балл – 6)

Иван IV Грозный; митрополит Макарий (2) (2)

5.3. Какой новый титул принял правитель Русского государства? (правильный ответ – 2 балла) От какого другого известного титула он был произведен? (правильный ответ – 2 балла, максимальный балл – 4)

Царь; от титула князя (2)

5.4. Назовите имена родителей правителя, изображенного на картине. (каждый правильный ответ – 2 балла, максимальный балл – 4)

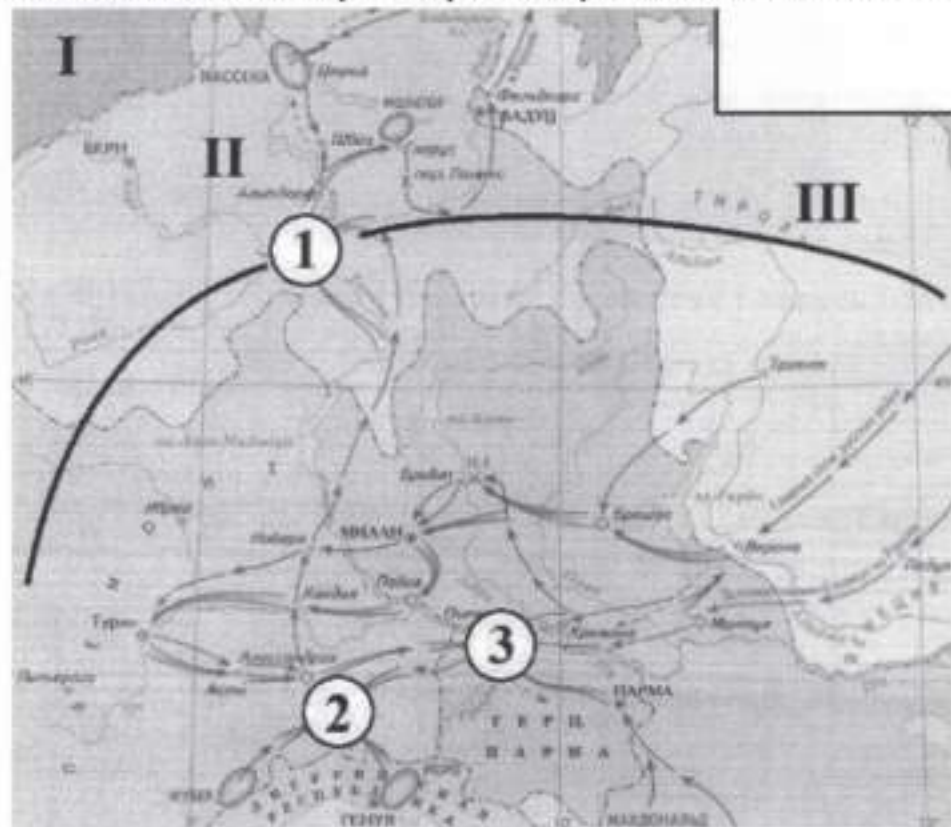
Иван III (2)

5.5. Какое значение имело это историческое событие? Приведите два факта (каждый правильный ответ – 2 балла, максимальный балл – 4)

5.6. Какие другие события произошли в правление изображенного на картине правителя? Назовите четыре события (каждый правильный ответ – 2 балла, максимальный балл – 8)

1) Открытие; 2) присоединение западной Сибири;
3) создание избирательной рады; 4) поход на Астрахань
4) смерть и ранение сына Ивана IV Ивана V

Задание 6 Внимательно рассмотрите схему и выполните задания. Максимум – 13 баллов



6.1 Укажите портрет российского императора, в правление которого происходили события, отражённые на схеме (Максимум за задание - 1 балл).



ответ: 1



6.2 Выберите на карте и укажите цифру, обозначающую местоположение сражения, которому посвящено приведённое изображение (максимум 1 балл).

ответ: 3





6.3 Соотнесите названия государств с римскими цифрами, которыми обозначены их территории (По 1 баллу за каждую верную пару. Максимум за задание – 3 балла).

Франция I		Франция
Курфюршество Бавария II		Речь Посполитая
Речь Посполитая III		Герцогство Ломбардия
Швейцария		Австрия
		Курфюршество Бавария
		Швейцария

6.4 Выберите верные утверждения. (по 2 балла за верно указанное, максимум – 8 баллов)

- События, отражённые на схеме, были частью войны Третьей антифранцузской коалиции.
- Руководителем русских войск в событиях, отражённых на схеме, был М.И. Кутузов.
- Римской цифрой I обозначена территория государства-союзника России в событиях, отражённых на схеме.
- В событиях, отражённых на схеме, принимали участие такие военачальники, как Э.-Ж.-Ж.-А. Макдональд, А. Массена и Ж.-В. Моро.
- Государство, территория которого обозначена римской цифрой III, было противником России в отражённых на схеме событиях.
- Одним из результатов событий, отражённых на схеме, стало укрепление сотрудничества России и Англии.
- По итогам участия в событиях, отражённых на схеме, руководителю русских войск присвоили почётное воинское звание генералиссимуса.
- На карте указано название реки, на которой одержали победу русские войска в ходе обозначенных событий, а также - войска Ганнибала за две тысячи семнадцать лет до этого.
- На карте обозначено название города – торговой республики в Средние века, владельца колоний в северном Причерноморье.
- На карте обозначен город, который в XIV веке римские папы вынуждены были сделать своей резиденцией.

Задание 7 Историческое сочинение – эссе (20 баллов).

Вам необходимо написать историческое сочинение об ОДНОМ из периодов истории России:

- 862–945 гг.;
- 1604–1613 гг.;
- 1725–1762 гг.

4) 1812 год ✓

В сочинении необходимо: – указать значимые события данного периода (4 балла) – назвать три исторические личности, принадлежащие данному периоду (3 балла) и охарактеризовать их деятельность – указать роль и значение данного периода в истории России (до 10 баллов). В ходе изложения необходимо корректно использовать исторические термины и понятия (3 балла)

1812 год был очень трудным для России. Потому что на русские территории вторглись французы во главе с Наполеоном Бонапартом. Началась русская армия терпела поражения. В итоге их отогнали почти до самой Москвы. На тот момент руководителем русских войск был М. И. Кутузов. Именно он принял решение отойти Москву, Сажатьскую, Калязину. Итого ничего ценного не досталось врагу. В результате Наполеон ушёл из России. Вскоре состоялось великое Бородинское сражение где русские войска разбили вой французов. Наполеон приказал уходить, но русские держали за ними и прогнали его до самого Парижа. Это война сыграла очень большую роль для России. Страна подняла свой авторитет в Европе и стала мощной военной державой

2 + 2 + 2 = 6

32
11
43